


MÚLTIPLOS

MÚLTIPLOS

El profesor de matemáticas premia con dos décimas cada sesión trabajada de los estudiantes de su clase.

	N° Sesiones	0	1	2	3	4	5	6	7	8	9	...
	N° Décimas	0	2	4	6	8	10	12	14	16	18	...

Con referencia a la imagen responde los espacios vacíos escribiendo: cero – múltiplos – infinitos

- El conjunto de los productos 0; 2; 4; 6; 8; 10; 12; 14; 16; 18; ... son múltiplos de 2.
- Los _____ de un número se obtiene al multiplicar dicho número por otro cualquiera.
- Los múltiplos de un número son _____.
- El _____ es múltiplo de todos los números.

Actividades de refuerzo

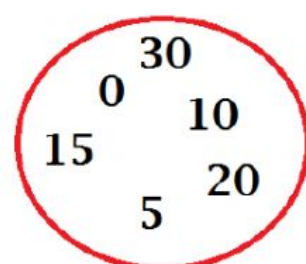
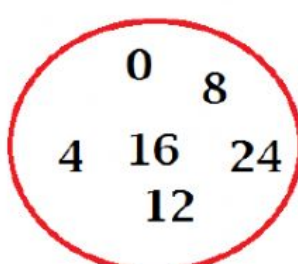
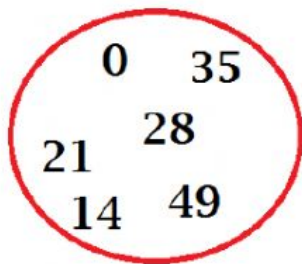
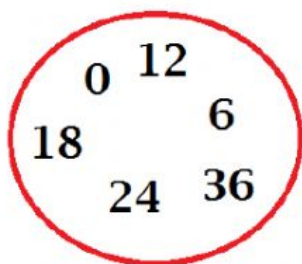
- **Relaciona** con una línea según corresponda:

M_4

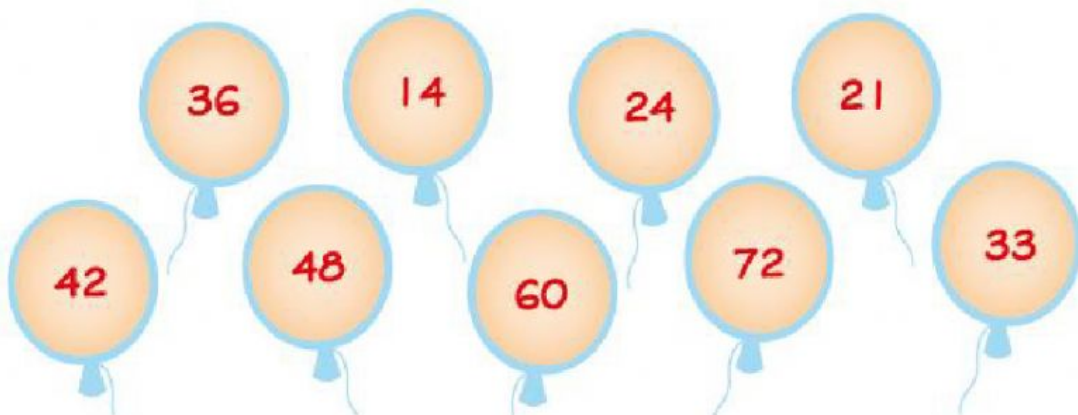
M_5

M_6

M_7



- **Selecciona** los casilleros que contienen los múltiplos de 12.



- **Completa** con los cuatro primeros múltiplos de cada número.



0					...
---	--	--	--	--	-----



0					...
---	--	--	--	--	-----



0					...
---	--	--	--	--	-----



0					...
---	--	--	--	--	-----



0					...
---	--	--	--	--	-----