

FULL DE CÀLCUL SETMANAL

Resol les següents operacions en un paper i quan tinguis la solució l'escrius en aquesta fitxa. Et recomanem que facis una activitat cada dia i quan les tinguis totes fetes completis la fitxa i l'entreguis.

No utilitzis la calculadora, ja que t'enganyaries tu mateix/a. L'objectiu és practicar les operacions!

$$722,45 + 26,584 + 6.234,08 =$$

















$$3.987,56 - 694,09 =$$

$$8194,7 \times 6,2 =$$

$$15.134 : 94 =$$

Cada salamandra té un valor diferent que es troba comprès entre 0,10 i 0,90.

Et donem el resultat de la suma de cada columna de salamandres.

| | | | |
|---|---|---|---|
|  |  |  |  |
|  |  |  |  |
|  |  |  |  |
|  |  |  |  |

$$= 2,40 \quad = 2,30 \quad = 2 \quad = 1,90$$

Quant val cada salamandra?

