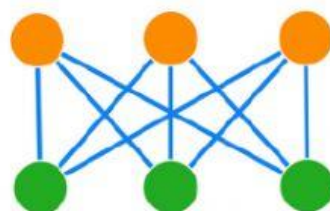
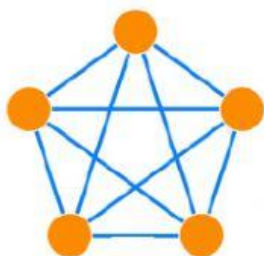
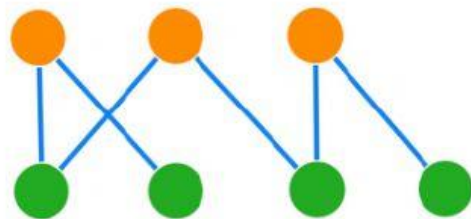
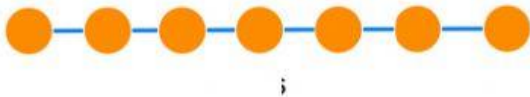
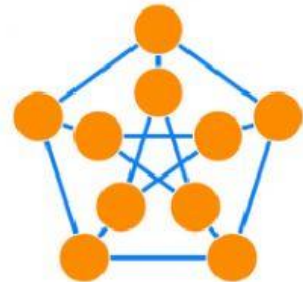
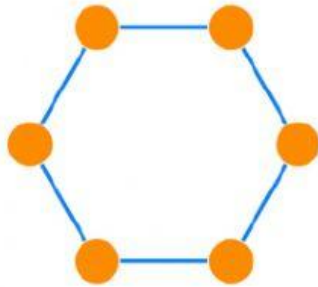



# Tipos de grafos.

Identifica los siguientes grafos:



¿Son verdaderas o falsas las siguientes afirmaciones?



Todos los vértices de un grafo camino tienen grado 2.

**VERDADERO**

**FALSO**



Un grafo ciclo tiene el mismo número de vértices que de aristas.

**VERDADERO**

**FALSO**



El grafo de Petersen es un grafo regular.

**VERDADERO**

**FALSO**



El grafo de Petersen es un grafo completo.

**VERDADERO**

**FALSO**



Un grafo completo de seis vértices tiene 15 aristas.

**VERDADERO**

**FALSO**