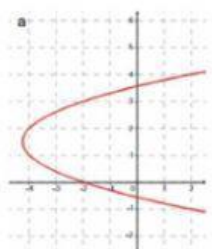
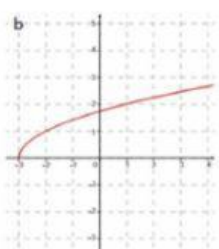
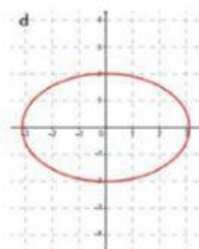


1.- Di si las siguientes representaciones pueden corresponder a gráficas de funciones:









2.- Dada la siguiente función, completa las informaciones que se piden sobre ella.

$$y=x-3$$

Tipo de función:

Nombre específico:

Forma de la gráfica:

Selecciona la gráfica de la función:

