

SOAL EVALUASI

Nama :

No :

Kelas :

1. Bangun apakah yang memiliki dua pasang sisi sama panjang?

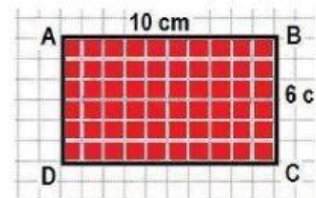
Jawab:

2. Bangun apakah yang memiliki dua diagonal sama panjang?

Jawab:

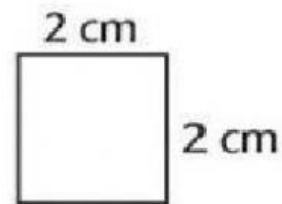
3. Dari gambar di samping, berapa panjang dan lebar bangun tersebut?

Jawab:



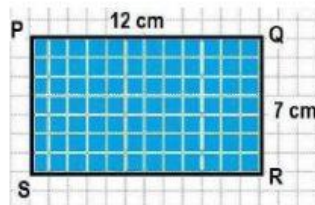
4. Dari gambar di samping, berapa panjang sisi bangun tersebut?

Jawab:



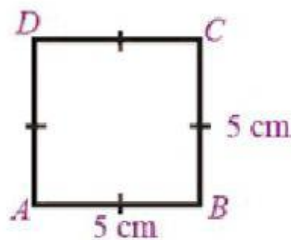
5. Berapa luas bangun di samping?

Jawab:



6. Berapa luas bangun di samping?

Jawab:



7. Jika sebuah persegi panjang memiliki luas 36 cm^2 sedangkan lebarnya 4 cm, berapakah panjang persegi panjang tersebut?

Jawab: