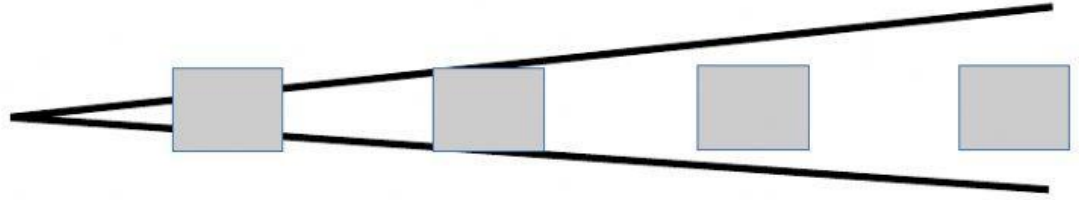



# Música

Ordena de menor a mayor intensidad



Marca la casilla correcta

FIGURAS	2 tiempos	3 tiempos	4 tiempos

¿Cuántos tiempos dura cada compás?

2/4

3/4

4/4

4 tiempos

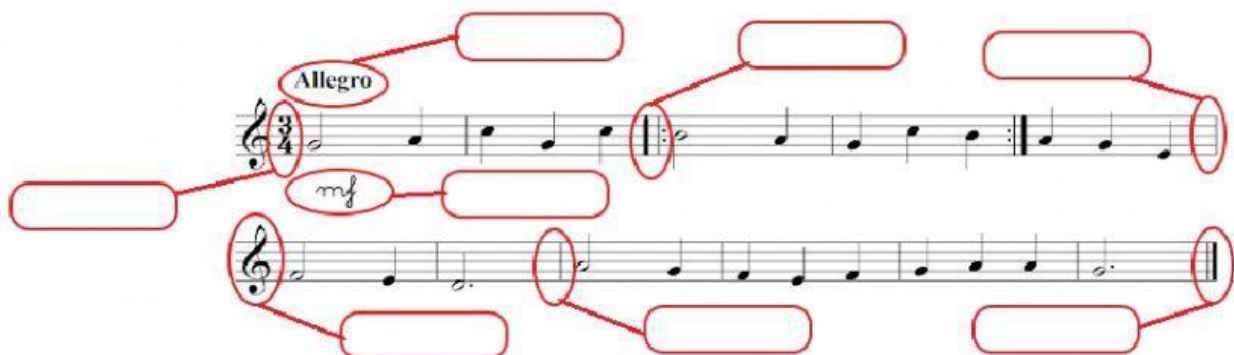
2 tiempos

3 tiempos

Completa con los nombres en italiano y elige su significado.



Elige los nombres.



Elige el nombre de las notas.

**Allegro**

Below the first staff, there are four empty boxes for labeling the notes.

Below the second staff, there are six empty boxes for labeling the notes.