

LEMBAR KERJA PESETA DIDIK (LKPD)



Segi Empat

Matematika Kelas VII - Semester Genap


Nama:

Kelas:



Nama Sekolah : SMP Negeri 1 Cirebon
Mata Pelajaran : Matematika
Kelas\Semester : Ull \ Genap
Materi Pelajaran : Segi Empat dan Segitiga
Alokasi Waktu : 40 Menit

Petunjuk Pengerjaan

- 1. Berdoalah sebelum memulai mengerjakan soal**
 - 2. Isilah identitas diri dengan lengkap**
 - 3. Pahami perintah soal yang dikerjakan**
 - 4. Bacalah setiap petunjuk pada tiap soal**
- 



Soal Tipe I | Pilihan Ganda

1. Berikut yang bukan termasuk segi empat adalah...

- a. Bujur Sangkar**
- b. Lingkaran**
- c. Persegi Panjang**
- d. Trapesium**

2. Memiliki empat sisi yang sama panjang merupakan sifat dari...

- a. Layang-layang**
- b. Jajar genjang**
- c. Bujur Sangkar**
- d. Trapesium**

3. Berikut yang bukan termasuk trapesium adalah...

- a. Trapesium sama kaki**
- b. Trapesium Siku-siku**
- c. Trapesium Sembarang**
- d. Trapesium Sama sisi**



Soal Tipe I | Pilihan Ganda

4. Berikut yang termasuk segi empat adalah...

- a. Bujur Sangkar**
- b. Trapesium**
- c. Persegi Panjang**
- d. Semua Benar**

5. Memiliki empat sisi yang panjangnya berbeda merupakan sifat dari...


- a. Layang-layang**
- b. Jajar genjang**
- c. Bujur Sangkar**
- d. Trapesium Sembarang**

Soal Tipe II | Menjodohkan

Pasangkan jenis segi empat di bawah ini sesuai dengan namanya



Persegi



Trapesium



Jajar Genjang

Soal Tipe III | Isian Singkat

Isikan jawaban yang benar pada kolom di bawah



nama dari bangun di atas merupakan :

Gambar Nomor 4 :

Gambar Nomor 1 :

Gambar Nomor 6 :



Soal Tipe IU | Drop Down

Pilihlah jawaban yang benar di bawah ini





Nama lain dari persegi adalah

A large, empty, rounded rectangular box with a light gray background is positioned below the question text. It is intended for the user to write the answer to the question.

Soal Tipe U | Drag and Down

Selaraskan bangun datar di bawah ini dengan menempatkan namanya di setiap kotak warna orange



Ambil jawaban di bawah ini kemudian tempatkan pada kolom yang menurut nda benar

Layang-Layang

**Trapesium
Siku-siku**

Persegi

PENYUSUN
LEMBAR KERJA PESERTA DIDIK

MUHAMNAD HIKMAL
2008105053