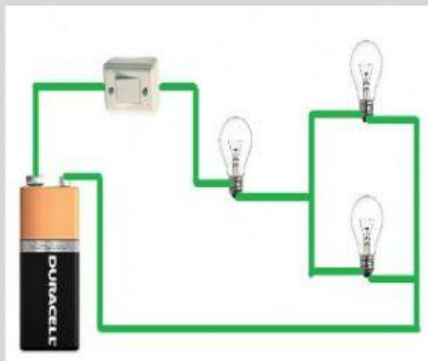
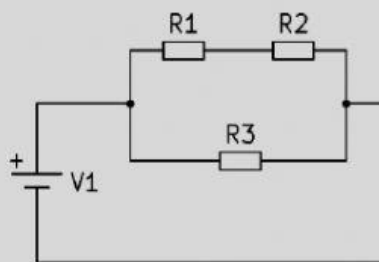


CIRCUITOS ELECTRICOS

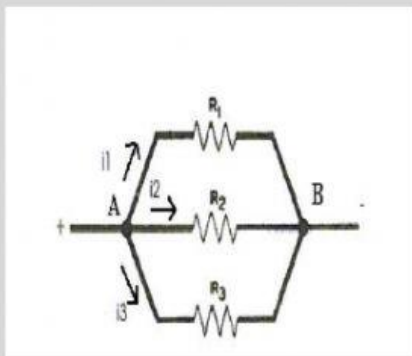
1 CUALES SON ESTOS TIPOS DE CIRCUITOS ELECTRICOS



En serie



mixto



paralelo

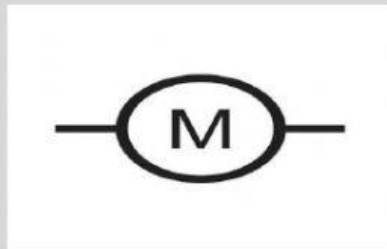
2 Nombre los elementos representativos en los circuitos



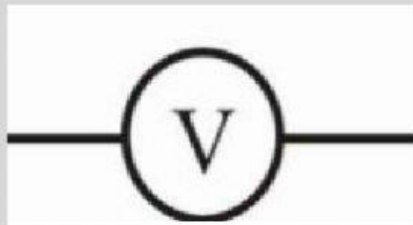
voltmetro



generador

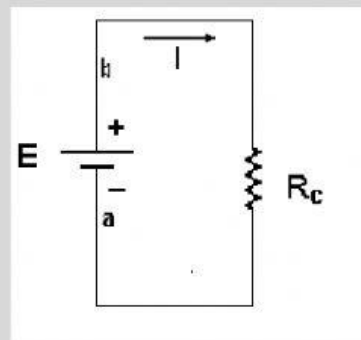
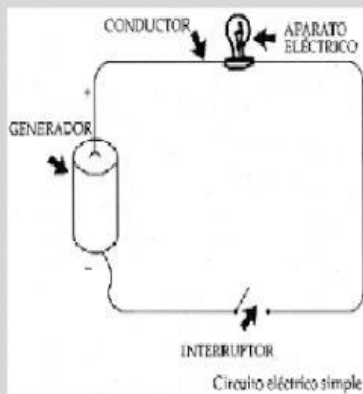


bombilla

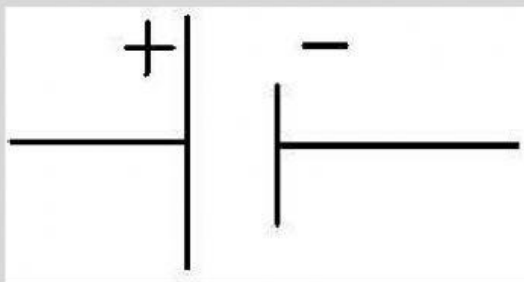


motor

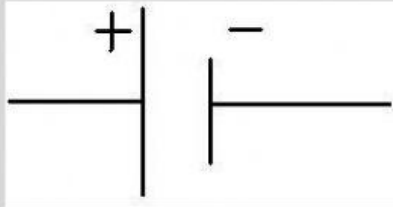
3 ¿Cuál es la imagen correcta de los generadores



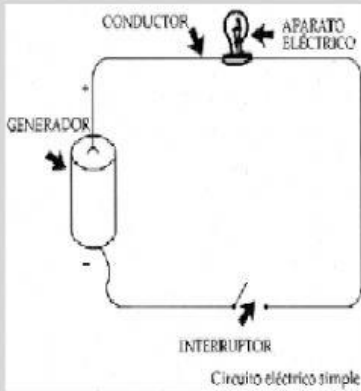
4 como se llaman este circuito eléctrico



5cual es la bomba centrifuga



Circuito paralelo



Bomba centrifuga



Pila

6cuantos tipos de circuitos existen

4

3

7

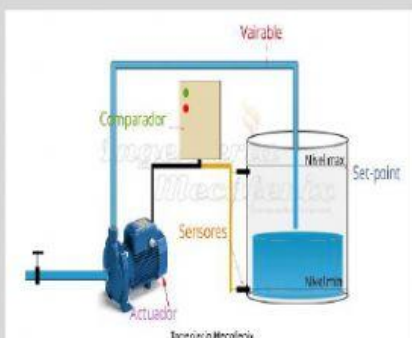
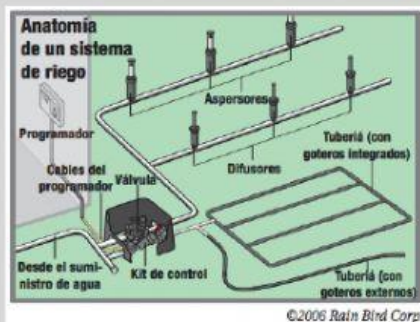
No se

7cual es el nombre de los tipos de interruptores_____

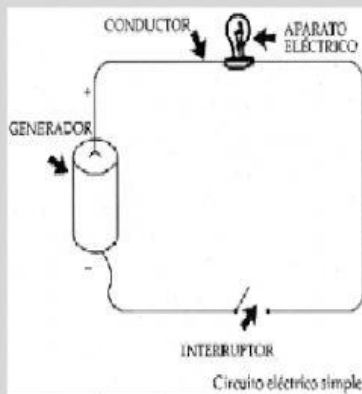
Voltímetro motor interruptor

En serie mixto paralelo

8ejemplo de sistemas automatizados de agua



9 cual es la imagen correcta de bomba centrifuga



10 cual es circuito que tiene circuito en serie y paralelo

En serie

mixto

Paralelo