

La Edad Media 2: Reinos Cristianos.

1.- Completa:

La Edad Media empieza en el con la

La Edad Media acaba en el con el.....

2.- Ordena las etapas de la Reconquista de la Península.

AÑO 1054



AÑO 1143



AÑO 1200



AÑO 1304



AÑO 1450











- Nombra los dos primeros núcleos de resistencia contra los musulmanes.

¿Cual fue la batalla decisiva que permitió a los cristianos reconquistar la península? ¿En qué año?

3.- Completa el esquema sobre la sociedad en los reinos cristianos.

En los reinos cristianos , la sociedad se organizaba en tres grupos o estamentos: la nobleza, el y los

La nobleza: eran los y las damas. Vivían en Ligados al rey por un pacto de Le juraban y ayuda militar y a cambio recibían y campesinos para trabajarlas.

El: estaba formado por los obispos,, abades y abadesas, monjes y monjas. Se dedicaban a y copiar

Los: Era principalmente campesinos y campesinas. La mayoría era, es decir, dependían de un noble o un monasterio y carecían de..... También había algunos que se dedicaban a la artesanía y el

4.-Escoge la opción correcta.

- ¿Cuándo finalizó la Reconquista de la península?

En el año 803, con la creación del Reino de Navarra.

En el 1230, con la creación del Reino de Castilla.

En el 1492, con la conquista del Reino de Granada.

- ¿Qué fue la repoblación?

La instalación de personas en los territorios conquistados para su cultivo y defensa.

La defensa de los territorios conquistados con murallas.

El cultivo de los territorios conquistados con nuevos alimentos.

- ¿Qué era un feudo o señorío?

Las tierras que recibían los campesinos para cultivarlas y pagar impuestos.

Las tierras que recibían los nobles mediante el pacto de vasallaje para administrarlas.

Las tierras que recibían los comerciantes y artesanos para defenderlas.

5.- Marca las opciones correctas sobre la vida en el campo en la Edad Media.

- ¿A quién pagaban impuestos los campesinos?

Al rey

A la Iglesia

A los nobles

A los artesanos

- ¿Con qué materiales construían sus casas?

Yeso

Madera

Mármol

Paja

Barro

- ¿Cómo era la vida de las familias campesinas?

Su nivel de vida era bajo

Se alimentaban de cultivos del señor

Comían mal y no tenían medicamentos

Su vida era larga

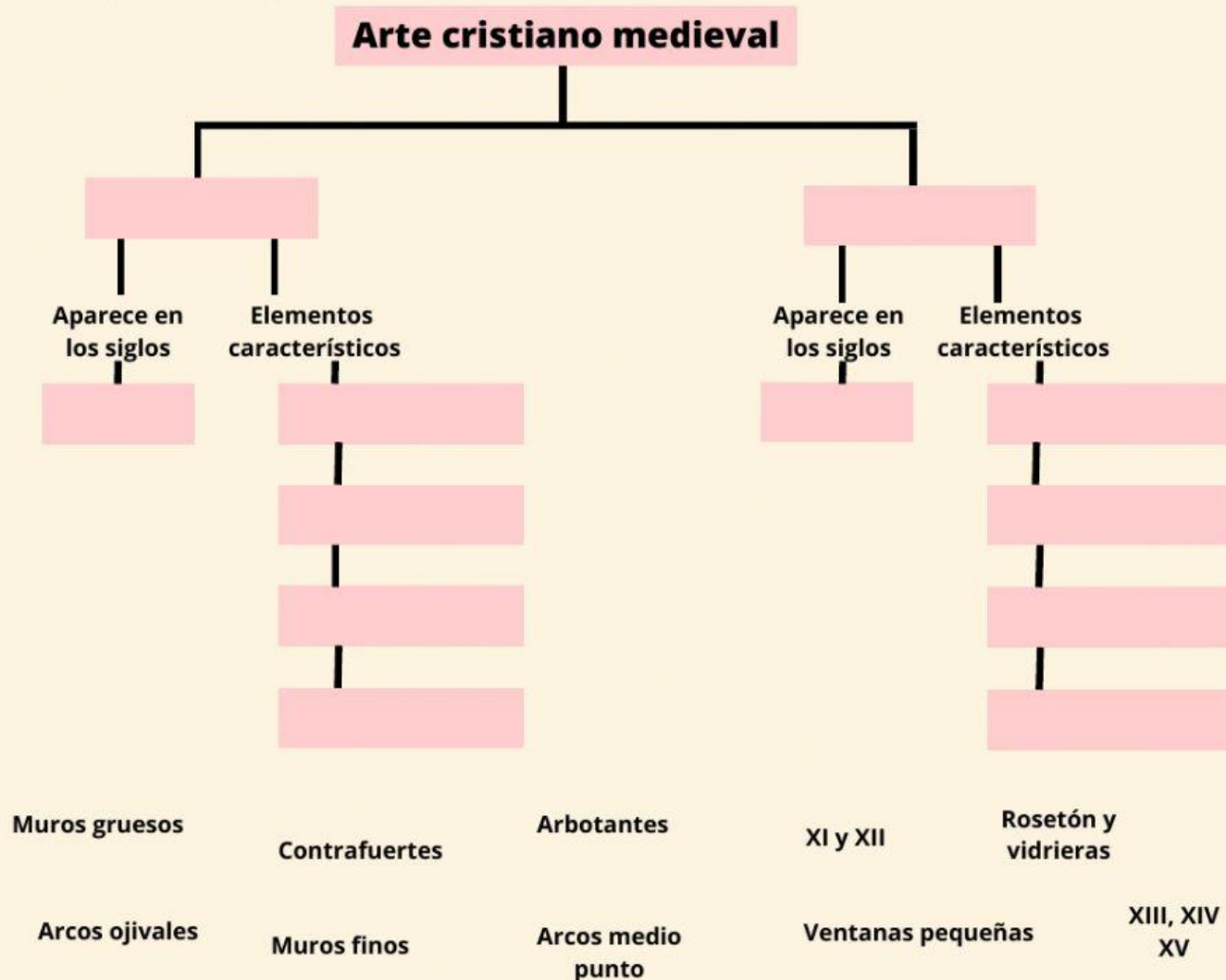
6.- Nombra los edificios más importantes de la ciudad medieval y contesta:



A: B:
C: D:
E: F:

- ¿Cuál era el edificio más destacado?
- ¿Qué eran los burgos?
- ¿Qué gobernaba los burgos?
- ¿Cómo se llamaban las agrupaciones de artesanos de un mismo oficio?

7.- Completa el esquema sobre el arte cristiano en la Edad Media.



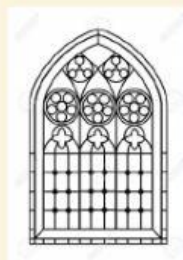
8.- Nombra los elementos de cada estilo y di a qué estilo pertenecen.



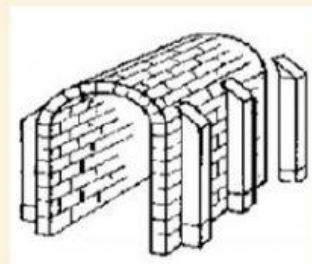
.....
.....



.....
.....



.....
.....



.....
.....