

PENILAIAN HARIAN (PH)
TAHUN PELAJARAN 2022-2023

MATA PELAJARAN : Matematika
KELAS/ SEMESTER : V (Lima)/ 2 (Dua)

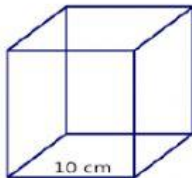
I. Pilihlah salah satu jawaban yang paling tepat dengan memberi tanda silang (x) pada huruf A, B, C, atau D!

1. Bangun kubus mempunyai sisi sebanyak
A. 3
B. 4
C. 5
D. 6
2. $\sqrt[3]{13.824} = \dots$
A. 14
B. 22
C. 24
D. 26
3. Cermati gambar berikut!



Gambar tersebut berbentuk ...

- A. Prisma
B. Limas
C. Tabung
D. Kerucut
4. Rumus untuk mencari volume prisma adalah
A. $s \times s \times s$
B. $p \times l \times t$
C. luas alas \times tinggi
D. $\pi \times r^2 \times t$
5. Perhatikan gambar berikut!



Volume kubus pada gambar tersebut adalah

- A. 100 cm^3
B. 1.000 cm^3
C. 3.000 cm^3
D. 30.000 cm^3
6. Diantara gambar berikut yang berbentuk tabung adalah

A.



B.



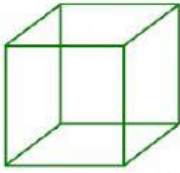
C.



D.



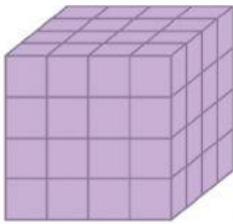
7. Perhatikan gambar berikut!



Volume = 343 cm^3

Panjang sisi kubus tersebut adalah

- | | |
|-------|-------|
| A. 7 | B. 9 |
| C. 11 | D. 15 |
8. Limas segitiga memiliki sisi sebanyak
- | | |
|------|------|
| A. 3 | B. 4 |
| C. 5 | D. 6 |
9. Cermati gambar berikut!



Volume bangun ruang tersebut adalah ... kubus satuan.

- | | |
|-------|--------|
| A. 8 | B. 16 |
| C. 64 | D. 125 |
10. Perbedaan antara balok dan kubus di antaranya adalah
- | |
|-------------------------|
| A. Jumlah sisinya |
| B. Besar sudut-sudutnya |
| C. Jumlah rusuknya |
| D. Bentuk sisi-sisinya |