



Docentes Clara Inés Sánchez Serrano

Área: Matemática

Institución

Asignatura: Geometría

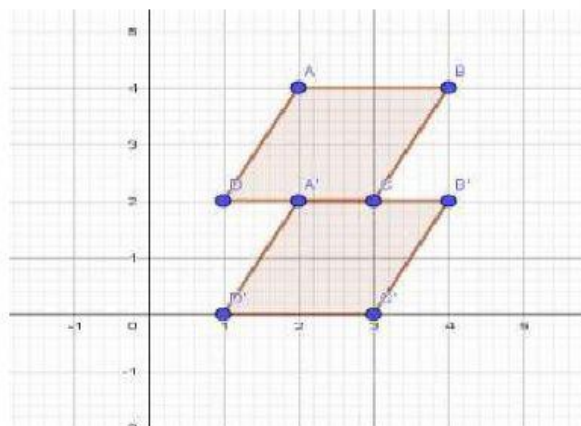
Nombre:

Grado:

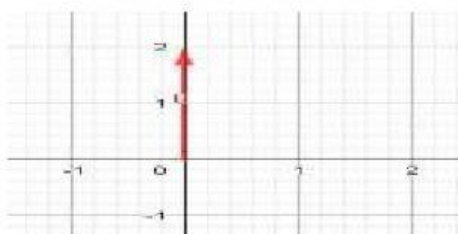
Objetivo: Repasar las traslaciones

En los ejercicios del 1 al 4 marca con una x la respuesta correcta

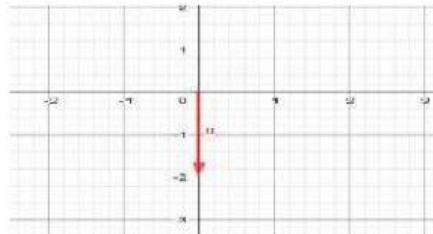
1. El vector que representa la traslación del polígono ABCD es :



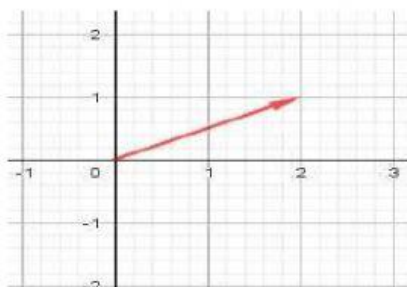
A.



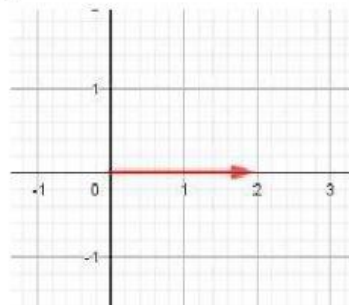
B.



C.



D.



2. Un vector indica:

- A. La magnitud
- B. El sentido
- C. La dirección
- D. Todas las anteriores

3. Une cada vector con su respectiva traslación

