
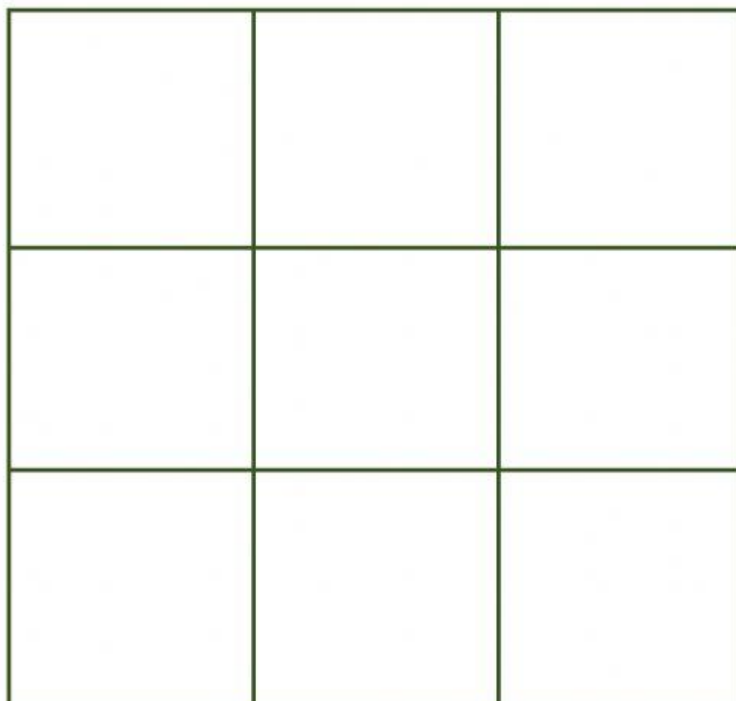




MICROSOFT EXCEL

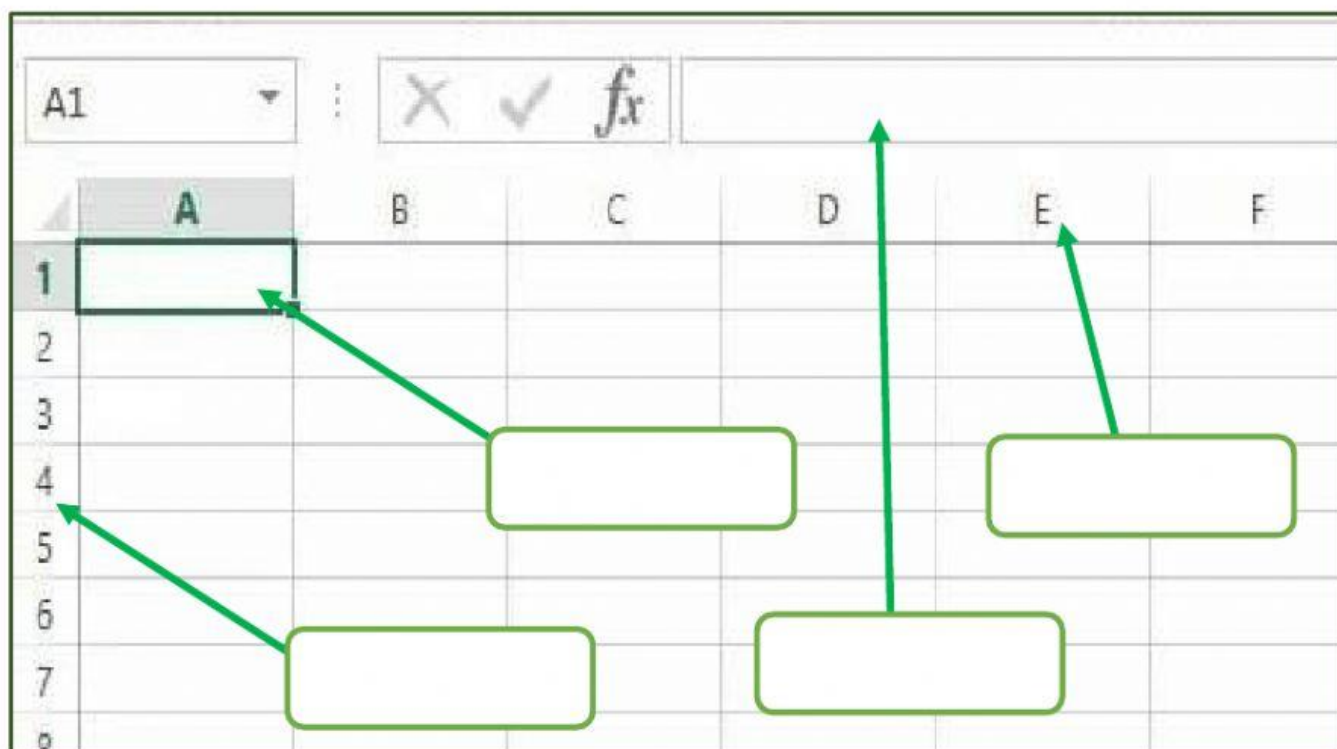
5to A y B

1. Arma el ícono de Excel y coloca las figuras en el lugar correcto.



2. Identifique cada sección de la hoja de Cálculo
(Ubique el nombre que corresponda)

1. Fórmula 2. Columnas 3. Celdas 4. Filas



3. Escribe el Nombre de cada CELDA, observa el Ejemplo :

	A	B	C	D	E
1					
2					
3					
4					
5		B5			
6					
7					
8					
9					
10					

4. Marque la opción Correcta:

- Si ingreso la siguiente fórmula en una celda, el resultado será:

$$=2+6/2*3+1$$

c) 12

d) 8/7

a) 4

b) 13

5. Selecciona los DATOS y las FÓRMULAS del SUBTOTAL y TOTAL correctos para encontrar la solución al siguiente problema:

	A	B	C	D	E
4		En una cesta hay 52 fresas y en otra cesta hay 45. Quiero juntar todas, pero me he comido 11 fresas. ¿Cuántas fresas hay?			
5					
6					
7					
8		Datos	Cantidad Fresas		
9		Cesta 1	<input type="text"/>		
10		Cesta 2	<input type="text"/>		
11		SUBTOTAL:	97		
12		Menos Cantidad	<input type="text"/>		
13		TOTAL:	86		

SUBTOTAL:

TOTAL: