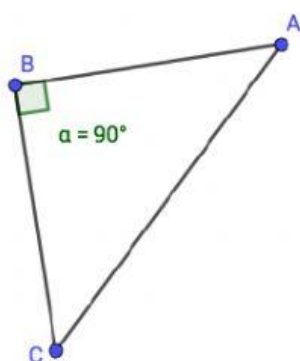
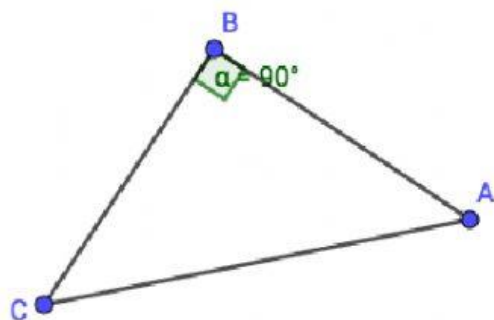
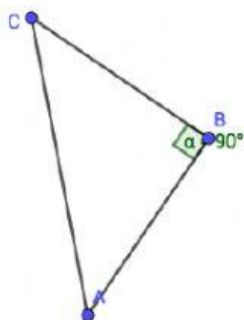


1) Scrivi accanto ad ogni lato il nome corretto (cateto, cateto o ipotenusa)



## 2) Compila la tabella

	a (cateto)	b (cateto)	c (ipotenusa)	$a^2$	$b^2$	$c^2$	$a^2 + b^2 =$
Triangolo 1	3	4	5				
Triangolo 2	6	8	10				
Triangolo 3	12	16	20				
Traingolo 4	15	20	25				

Completa con i termini: *somma, cateti, quadrati, ipotenusa, quadrato*

In base alla tabella presedente si deduce che facendo la  
dei                      dei                      si ottiene il                      dell'