


1º Observa las imágenes y señala el tipo de movimiento que aparece:





2º Cuatro coches de carreras se mueven con m.r.u. El tiempo que ha pasado es de tres horas. Completa los espacios e indica cual es el más rápido.

Distancia recorrida

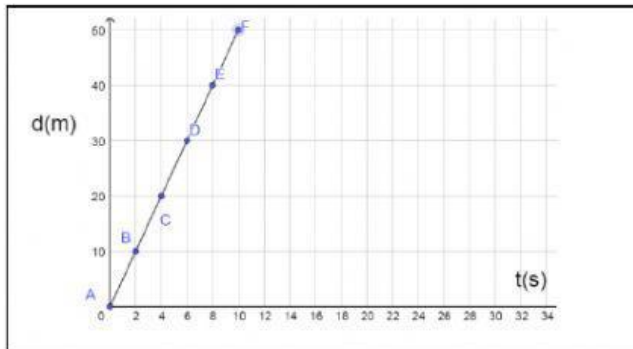
Rapidez media

(indicar un solo decimal sin redondeo)

840 km		km/h	m/s
km		285km/h	m/s
900 km		km/h	m/s
km		290km/h	m/s

El coche más rápido es el de color.....

Observa la gráfica del movimiento de un móvil y contesta las preguntas:



a) ¿Qué tipo de movimiento es?

b) ¿Con qué rapidez en km/h
circula el móvil?

c) ¿Qué tiempo, expresado en horas, tardará en recorrer 100 km?