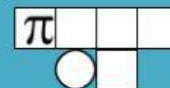
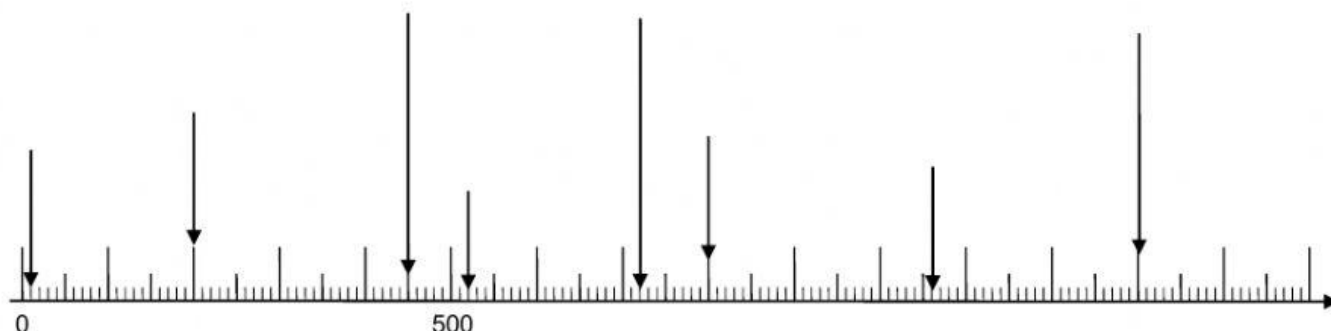


# Übungen zum Zahlenstrahl



Notiere die richtige Zahl!

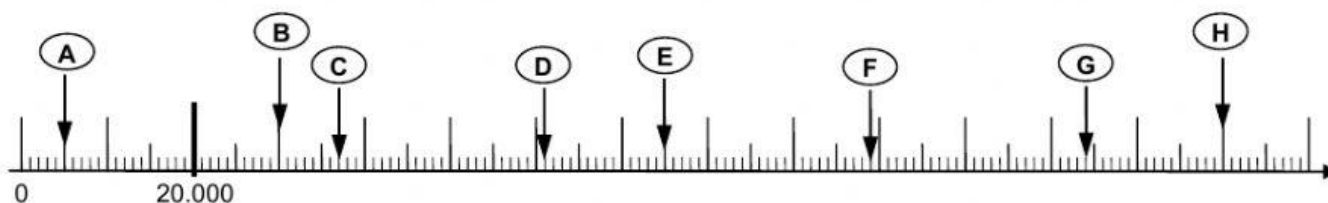


Ergänze die Zahlenreihe an den langen Strichen unter dem „Maßband“.  
jeder Großbuchstabe zeigt auf eine Zahl.  
Schreibe die Zahlen unten zu den Buchstaben.



A = \_\_\_\_\_ B = \_\_\_\_\_ C = \_\_\_\_\_ D = \_\_\_\_\_

E = \_\_\_\_\_ F = \_\_\_\_\_ G = \_\_\_\_\_ H = \_\_\_\_\_



A = \_\_\_\_\_ B = \_\_\_\_\_ C = \_\_\_\_\_ D = \_\_\_\_\_

E = \_\_\_\_\_ F = \_\_\_\_\_ G = \_\_\_\_\_ H = \_\_\_\_\_

Notiere die richtige Zahl...

