



Telesecundarias Veracruz

Fracciones y decimales 2


Arrastra por debajo de las jarras la cantidad de litros que tiene cada una.



Jarra 1



Jarra 2



Jarra 3

0.300 L

0.500 L

0.320 L

0.710 L

0.700 L

Arrastra los cilindros que representan el líquido que debe ir en cada una de las jarras para que se represente correctamente el contenido.



$\frac{1}{4}$ L



$\frac{3}{4}$ L



$\frac{7}{10}$ L



$\frac{65}{100}$ L



$\frac{300}{1000}$ L



$\frac{1}{5}$ L



$\frac{4}{5}$ L