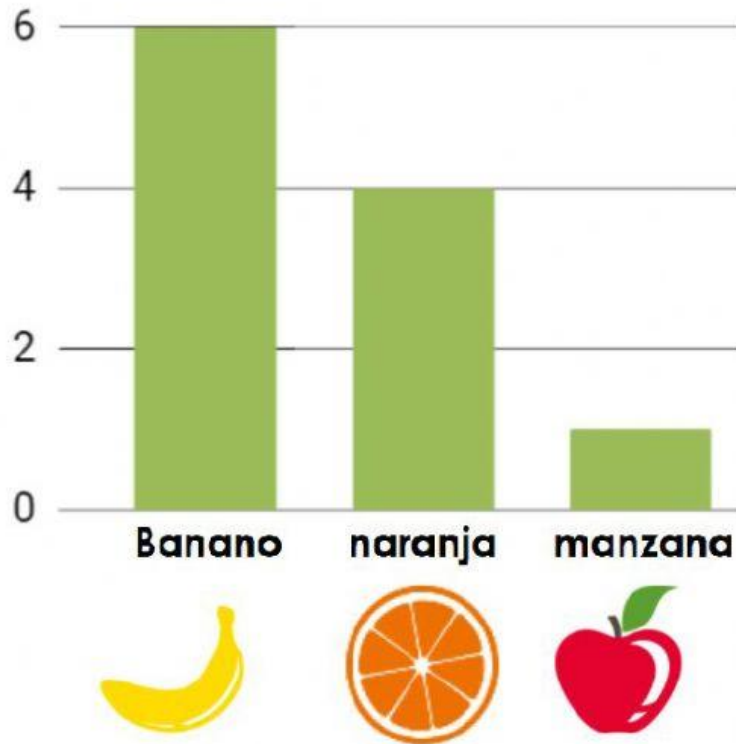





Nombre: _____

¿Cuál es tu fruta favorita?

Mira la siguiente gráfica. Completa la tabla escribiendo los números que faltan.



Responde las preguntas:

1. ¿Cuál es la fruta que más votos tiene?

2. ¿Cuál es la fruta que menos votos tiene?

3. ¿Cuántos niños votaron en total?