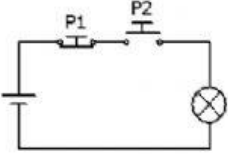
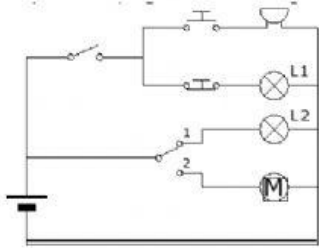
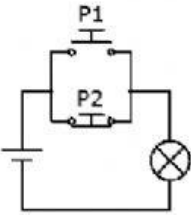
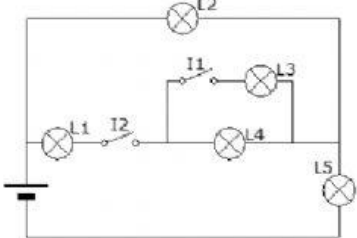


Observa los siguientes elementos de maniobra (pulsadores, interruptores y conmutadores) y...

Elige la respuesta correcta		Describe con tus palabras lo que sucede	
	<p>La bombilla se enciende si...</p> <ul style="list-style-type: none"> Pulsador P1 pulsado Pulsador P2 pulsado Pulsador P1 pulsado Pulsador P2 sin pulsar Pulsador P1 sin pulsar Pulsador P2 pulsado Pulsador P1 sin pulsar Pulsador P2 sin pulsar 		<p>¿Qué debo de hacer para que...?</p> <ul style="list-style-type: none"> Suene el zumbador Luzca la lámpara L1 Luzca la lámpara L1 Se mueva el motor
	<p>La bombilla se enciende si...</p> <ul style="list-style-type: none"> Pulsador P1 pulsado Pulsador P2 pulsado Pulsador P1 pulsado Pulsador P2 sin pulsar Pulsador P1 sin pulsar Pulsador P2 pulsado Pulsador P1 sin pulsar Pulsador P2 sin pulsar 		<p>¿Qué sucede si...?</p> <ul style="list-style-type: none"> Cierro el interruptor I1 Cierro el interruptor I2