
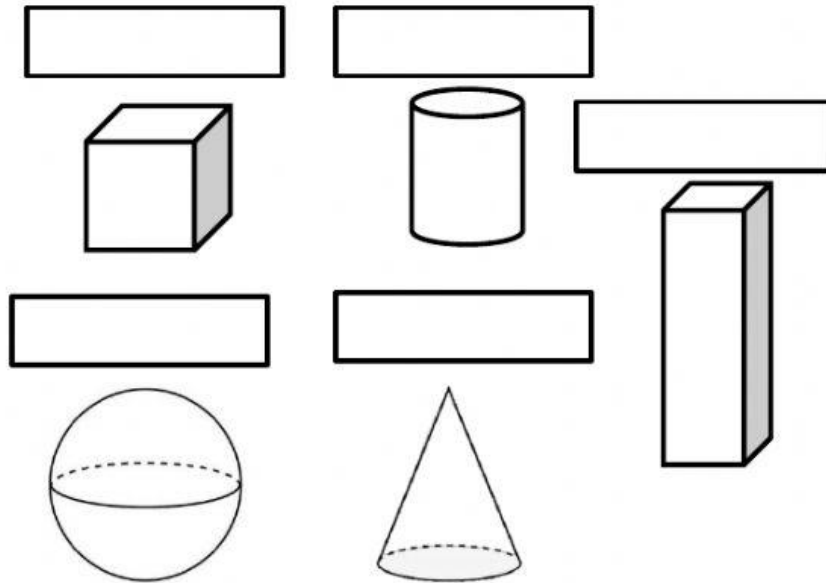


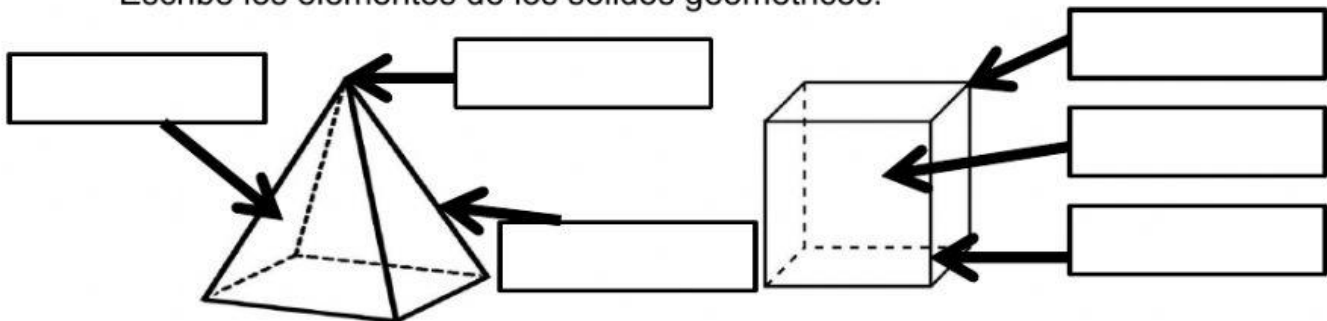
COLEGIO FREINET		F.AC-GC 004 V04	
DEPARTAMENTO DE MATEMÁTICAS		01/08/2017	
ASIGNATURA MATEMÁTICAS	DOCENTE CATALINA GUZMÁN-KATHERINE CUBIDES	GRADO 2° E. B. P	

3D SHAPES (SÓLIDOS GEOMÉTRICOS)

Completa escribiendo el nombre de cada sólido:



Escribe los elementos de los sólidos geométricos:



Selecciona verdadero o falso:

- El cilindro tiene 4 caras
- La pirámide de la imagen de arriba tiene la base cuadrada
- La prisma rectangular tiene 6 caras iguales