







# Taller estadística


## Tablas de conteo

1. Cuales son los juguetes favoritos cuenta y completa la tabla

|   |   |   |   |   |   |   |
|---|---|---|---|---|---|---|
|  |  |  |  |  |  |  |
|  |  |  |  |  |  |  |
|  |  |  |  |  |  |  |























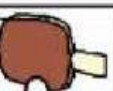




|            |   |   |   |   |   |   |
|------------|---|---|---|---|---|---|
| Juguete    |  |  |  |  |  |  |
| conteo     |   |   |   |   |   |   |
| frecuencia |   |   |   |   |   |   |

2. Observa y completa la tabla




| animal   | conteo | frecuencia |
|----------|--------|------------|
| gato     |        |            |
| elefante |        |            |
| leon     |        |            |
| conejo   |        |            |

3. Cuenta los juguetes preferidos por los niños de primer grado y completa el cuadro.

|   |   |   |   |   |   |   |
|---|---|---|---|---|---|---|
|  |  |  |  |  |  |  |
|  |  |  |  |  |  |  |
|  |  |  |  |  |  |  |
| Juguete   |  |  |  |  |  |  |
| Conteo  |   |   |   |   |   |   |
| frecuencia  |   |   |   |   |   |   |

4. Observa y completa



| tipo de bicho   | conteo | frecuencia |
|---|--------|------------|
|  |        |            |
|  |        |            |
|  |        |            |
|  |        |            |