




2. Apakah inferens bagi setiap pemerhatian berikut? Tandakan (✓) pada jawapan yang betul. TP 4 TP 5 TP 6 KBAT Menganalisis

Pemerhatian	Inferens (Sebab)	
(a)  Belalang mati	Belalang menerima haba.	
	Belalang tidak mendapat oksigen.	
	Belalang tidak mendapat cahaya matahari.	
(b)  Pakaian cepat kering	Pakaian menerima haba.	
	Pakaian menerima cahaya.	
	Pakaian menyerap air.	
(c)  Pokok layu	Pokok tidak menerima oksigen.	
	Pokok tidak menerima cahaya matahari.	
	Pokok tidak mendapat air.	