
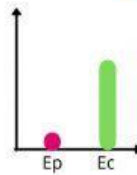
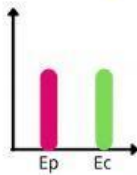


ACTIVIDAD 8: Gráficas de energía potencial y cinética

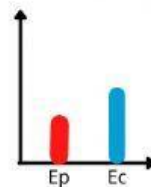
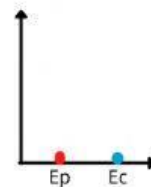

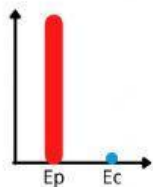
Nombre: _____

Grupo: _____

- 1** Relaciona cada una de las gráficas de energía con las posiciones del movimiento de un columpio.



- 2** Relaciona las situaciones esquematizadas con alguno de los esquemas de energía.



- 3** Relaciona las posiciones del movimiento de un patinador con las graficas de energía correspondiente.

