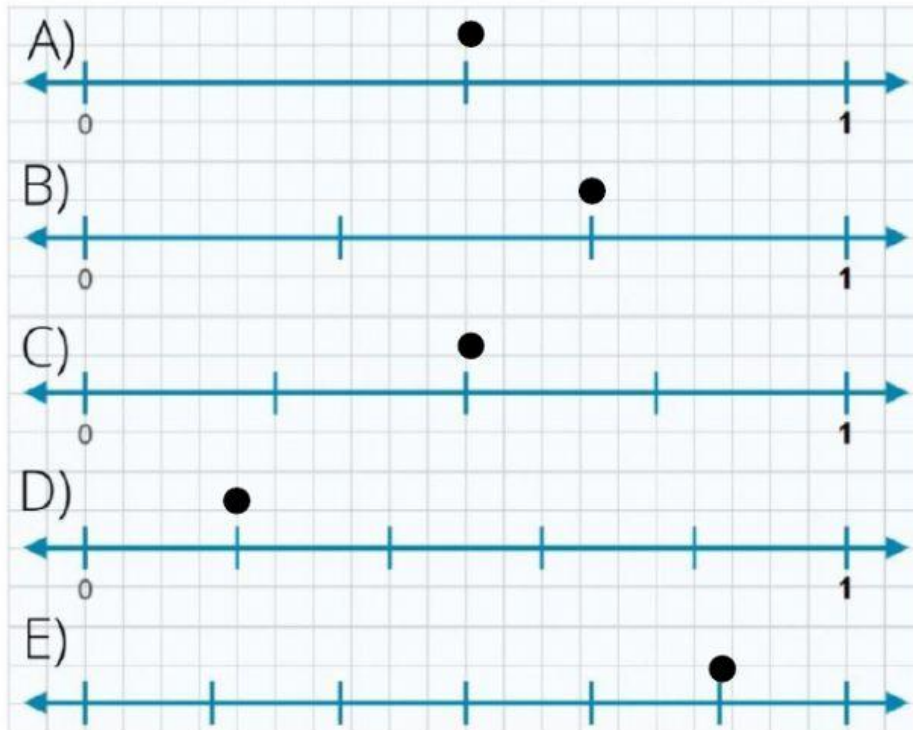


# Repaso de Matemáticas T2P1

Relaciona la fracción a la recta numérica según corresponda:



$\frac{2}{4}$

$\frac{1}{5}$

$\frac{1}{2}$

$\frac{5}{6}$

$\frac{2}{3}$

ESCRIBE LA CANTIDAD CORRECTA CON NÚMERO DECIMAL

Ochocientos enteros, quinientos cinco milésimos

Trescientos doce enteros, dos centésimos

Cinco enteros, veinte milésimos

Seis enteros, nueve decimos.

Resuelve las sumas y restas con decimales y escribe el número donde corresponde:

$$\begin{array}{r} 439.198 \\ + 91.07 \\ + .85 \\ \hline \square\square\square\square\square\square \end{array}$$

$$\begin{array}{r} 733.04 \\ - 509.79 \\ \hline \square\square\square\square\square \end{array}$$

COMPARA LAS SIGUIENTES CANTIDADES Y ESCRIBE EL SÍMBOLO QUE CORRESPONDA <, > O =

$24.679 \square 24.697$

$13.80 \square 13.09$

$56.340 \square 56.430$

$25.670 \square 25.607$

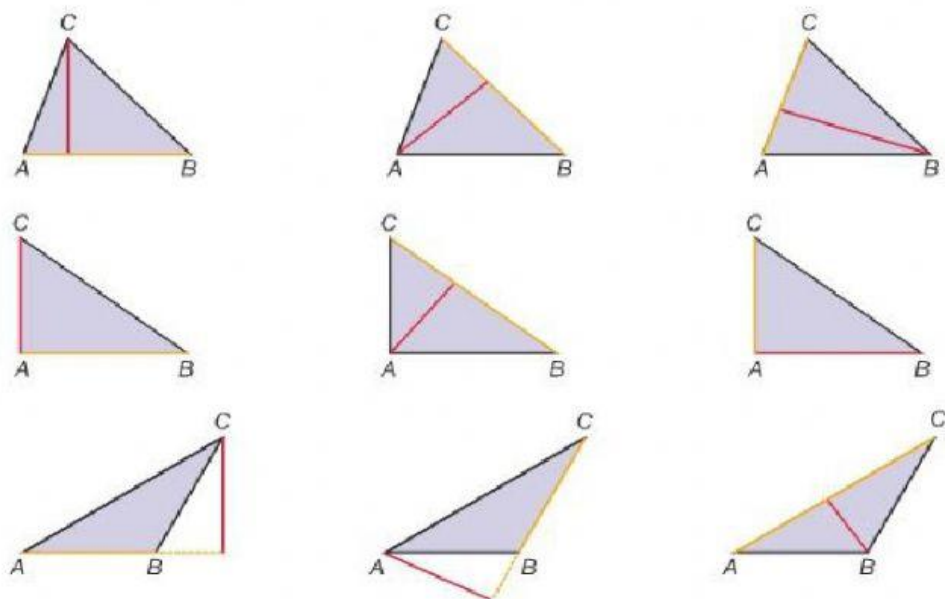
$83.10 \square 83.09$

$96.34 \square 96.40$


ESCRIBE EN FRACCIÓN DECIMAL O NÚMERO DECIMAL SEGÚN CORRESPONDA PARA COMPLETAR LA TABLA

FRACCION DECIMAL	NUMERO DECIMAL
$\frac{25}{100}$	
—	.086

SELECCIONA EL TIPO DE TRIAGULOS QUE SE MUESTRAN EN LA IMAGEN



**CALCULA EL ÁREA DE LOS PARALELOGRAMOS Y ESCRIBE LA RESPUESTA**



**8 cm**

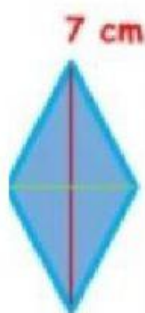
Área =  cm<sup>2</sup>



**3 cm**

**12 cm**

Área =  cm<sup>2</sup>



**7 cm**

**2 cm**

Área =  cm<sup>2</sup>

**RESUELVE LA SIGUIENTE DIVISIÓN COLOCANDO LOS NÚMEROS QUE CORRESPONDEN**

4  $\overline{) 831}$

COMPLETA LA TABLA DE PROPORCIONALIDAD EN RELACION DE LA CANTIDAD DE HUEVOS PARA HACER TORTILLAS

Tortillas	2	4	<input type="text"/>	16	<input type="text"/>
Huevos	8	16	24	<input type="text"/>	36