

AGENDA:

ACOLHIDA: ASSISTA O VÍDEO- REFLEXÃO ALUNOS E FAMÍLIA.



PROFESSORA ROSY

ATIVIDADE DIAGNÓSTICA: (REALIZAR OS CÁLCULOS NO CADERNO);
ENVIAR AS RESPOSTAS NAS FOLHINHAS OU FOTO DA ATIVIDADE.

QUIZ DE CORREÇÃO: Após 2hs do início da atividade,
encaminharei um jogo de respostas.



ATIVIDADE DIAGNÓSTICA DE MATEMÁTICA

NOME: _____

SÉRIE _____ TURNO _____ TURMA _____


1-Veja abaixo a decomposição de um número no quadro



Esse número é:

- (A) 4. 445
- (B) 499
- (C) 409
- (D) 4.999

2-Leia a história



A idade da tartaruguinha pode ser decomposta da seguinte forma:

- (A) 7 dezenas
- (B) 7 dezenas e 6 unidades
- (C) 6 dezenas e 7 unidades
- (D) 76 dezenas

3-Observe o número da placa do carro desenhado abaixo



Qual é o valor posicional do algarismo 1 no número da placa desse carro?

- A) 1.
- B) 10.
- C) 19.
- D) 21.

4- As fichas a seguir mostra a quantidade de pontos que Roberto fez em um jogo.



Ao todo Roberto fez

- A) 70 pontos
- B) 340 pontos
- C) 430 pontos
- D) 700 pontos

OBSERVE A DECOMPOSIÇÃO QUE CARLOS FEZ

$$100+50+9$$

05-O número decomposto por Carlos é

- (A) 195.
- (B) 159.
- (C) 150.
- (D) 69.

06- Caio estava de férias. Suas férias foram de 6 semanas. Quantos dias Caio ficou de férias?


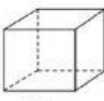


- A) 6
- B) 7
- C) 30
- D) 42



07-Observe abaixo o desenho de uma lixeira.



1-Esse desenho lembra qual forma geométrica?

- | | |
|---|---|
| A) <input type="checkbox"/>  | B) <input type="checkbox"/>  |
| Cilindro. | Cubo. |
| C) <input type="checkbox"/>  | D) <input type="checkbox"/>  |
| Esfera. | Pirâmide. |

08-Lílian ficou um mês de férias na fazenda do seu avô. A quantidade de dias que Lílian ficou na fazenda foi de:

- (A) 45 dias
- (B) 40 dias
- (C) 35 dias
- (D) 30 dias



09-No bairro onde moro, o ônibus passa de 30 em 30 minutos. Se um ônibus passou às 9:50h, a que horas passará o próximo ônibus?

- (A) 11 horas
- (B) 11 horas e 30 minutos
- (C) 10 horas e 20 minutos
- (D) 12 horas e 30 minutos



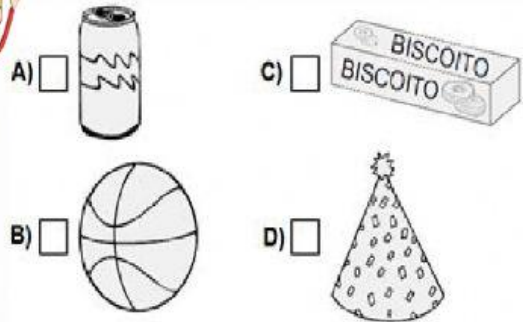
10-Magali gosta de beber muito refrigerante. Observe os recipientes que tem em cima da mesa.

Ajude Magali pegar a maior quantidade.

- A) 350 ml
- B) 237 ml
- C) 2 L
- D) 200 ml



11-Qual dos desenhos abaixo lembra a forma de um paralelepípedo?



12-Falta 1 semana para a festa de aniversário de Roberta. A quantidade de dias que faltam para a festa de Roberta é

- (A) 5 dias.
- (B) 6 dias.
- (C) 7 dias.
- (D) 8 dias.



13-Na folhinha de calendário destacada abaixo, está marcada a data que inicia o feriado de carnaval 2021.

Em que dia da semana inicia o feriado?

- (A) Domingo.
- (B) Terça-feira.
- (C) Quarta-feira.
- (D) Quinta-feira.



14-No zoológico tem 173 tartarugas, 54 são filhotes O nº de tartarugas adultas são:

- A- 119
- B- 58
- C- 81
- D-121



15- Na pipoqueira de Emanuel tinha 172 pacote de pipocas, foram vendidos 90. Quantas pipocas restaram?

- A) 82
- B) 46
- C) 85
- D) 66

