


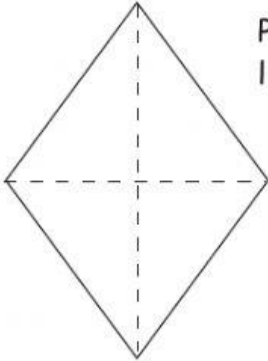


La scheda è tratta dal fantastico sito di Lannaronca.it,
a cui noi tutti ins. della primaria italiani e no, dobbiamo molto :) Grazieeee!!!

DATI E POLIGONI	FORMULA INVERSA	CALCOLO IL LATO
 <p> $P = \text{cm } 16$ $l = ?$ </p>		
 <p> $P = \text{cm } 10$ $l_1 = \text{cm } 2$ $l_2 = ?$ </p>		
 <p> $P = \text{cm } 19$ $l_1 = \text{cm } 6$ $l_2 = ?$ </p>		
 <p> $P = \text{cm } 28$ $l = ?$ </p>		

DATI E POLIGONI	FORMULA DEL PERIMETRO	CALCOLO IL PERIMETRO
