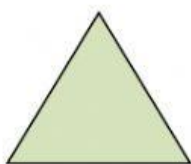
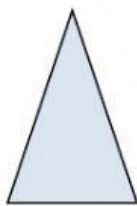


FICHA DE TIPOS DE TRIÁNGULOS

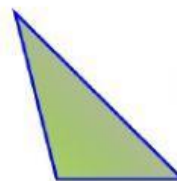
1. Arrastra cada nombre al triángulo que corresponde:



Isósceles



Equilátero



Escaleno

2. Elige el nombre del triángulo

El triángulo.....tiene un lado diferente.

El triángulo.....no tiene ningún lado igual.

El triángulo.....tiene todos los lados iguales.

3. Señala si es verdadero o falso

Los triángulos equiláteros tienen solo un lado igual.....

Los triángulos escalenos no tienen ningún lado igual.....

Los triángulos equiláteros tienen todos los lados iguales.....

Los triángulos isósceles tienen dos lados iguales.....