



DESKONTUAK

NOLA KALKULATZEN
DITUGU?





~~%10~~ ~~%20~~
BEHERAPENAK
~~%40~~ ~~%30~~

	HASIERAKO PREZIOA	DESKONTUA	DESKONTUA G-TAN
	340€	40%	NOLA KALKULATU? $\frac{\text{PREZIOA} \times \text{DESKONTUA}}{100}$ $\frac{340 \times 40}{100} = 136$

AZKENEKO PREZIOA
KALKULATZEKO

$$340 - 136 = 204 \text{ €}$$

KALKULATU DESKONTU HAUEK.

	HASIERAKO PREZIOA	DESKONTUA	DESKONTUA G-TAN	BULARRAKO PREZIOA
	100€	30%	<input type="text"/>	<input type="text"/>
	340€	40%	<input type="text"/>	<input type="text"/>
	150€	10%	<input type="text"/>	<input type="text"/>
	80€	15%	<input type="text"/>	<input type="text"/>