





Natalia y su familia han visto una película que ha durado 9.400 s. Lee lo que dice cada uno de los personajes y escribe V o F según sea verdadero o falso.

		V / F
	La película ha durado 2 h y media.	
	Hemos visto una película de 3 horas.	
	La película duraba 2 h 36 min 40 s.	
	Han sido 2 h 36 min de película.	

Arrastra el dato correcto para expresar en segundos estas cantidades.

$\frac{1}{4}$ h	→	
5 min	→	
$\frac{1}{2}$ h	→	
1 min y $\frac{1}{2}$ min	→	
20 min	→	
1 día	→	

86.400 s

1.800 s

1.200 s

900 s

300 s

90 s