

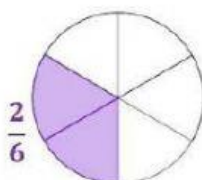
Clasifica las fracciones. Une con una línea:

Sra. Moctezuma

(Modificado Karina Cruzado)



$$\frac{11}{8}$$



$$\frac{2}{6}$$



$$1 \frac{3}{4}$$

(uno y tres cuartos)

Fracción propia

Número mixto

O

Fracción mixta

Fracción impropia

Arrastra y coloca las fracciones propias e impropias donde corresponde:

**FRACCIONES
PROPIAS**

**FRACCIONES
IMPROPIAS**

$\frac{2}{5}$

$\frac{2}{3}$

$\frac{4}{3}$

$\frac{6}{5}$

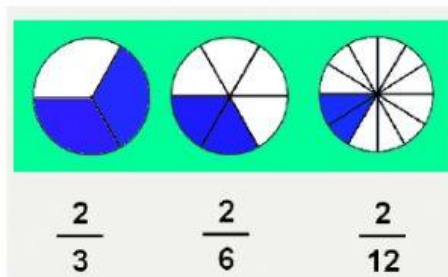
$\frac{8}{6}$

$\frac{4}{8}$

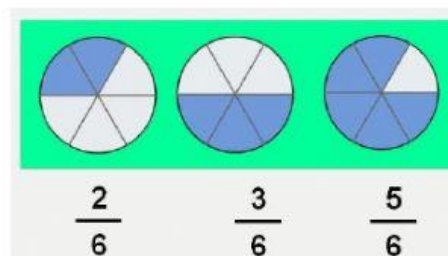
$\frac{1}{2}$

$\frac{9}{3}$

Arrastra y coloca el nombre de cada tipo de fracción donde corresponde:



**Fracciones
homogéneas**



**Fracciones
heterogéneas**