


Nombre: _____

Fecha: _____


Tema: Multiplicación

Cuenta grupos iguales para hallar cuántos elementos hay.



___ grupos de ___

___ en total



___ grupos de ___


___ en total

Escribe enunciados de suma y de multiplicación relacionados para el modelo.



___ + ___ + ___ + ___ = ___

___ × ___ = ___



___ + ___ + ___ = ___

___ × ___ = ___

