

1. Calcula.

675×9

675×8

585×5

585×7

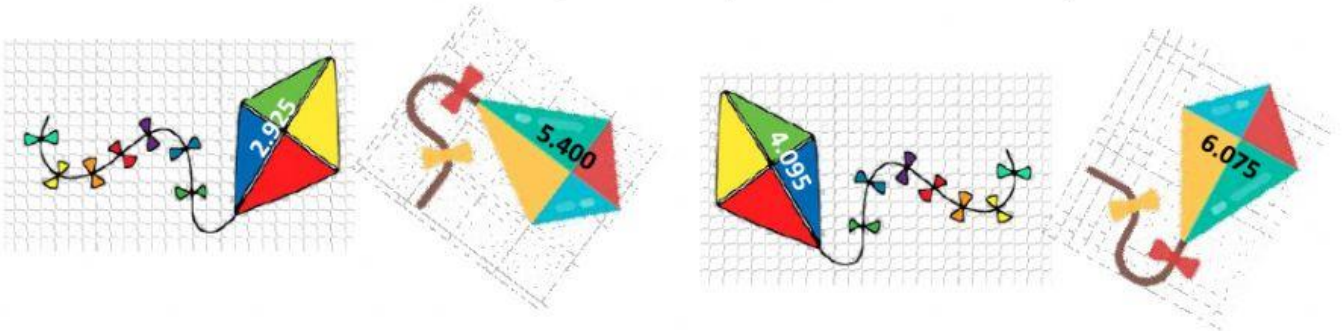
*Lee y relaciona a cada niño con la cometa que tiene el producto de la multiplicación que ha calculado.

Andrea ha calculado la multiplicación cuyos factores son 675 y 8.

Daniel ha calculado la multiplicación cuyos factores son 585 y 5.

Marcos ha calculado la multiplicación cuyos factores son 675 y 9.

Susana ha calculado la multiplicación cuyos factores son 585 y 7.



Andrea

Marcos

Daniel

Susana



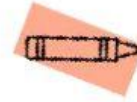
2. Calcula. Después, colorea.



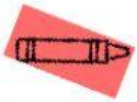
$395 + 526$



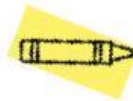
$279 + 624$



$703 + 89$



$137 + 543 + 276$



$345 + 231 + 410$



Si lo has hecho bien,
te saldrá un dibujo
muy apetitoso.

¿Qué dibujo te ha salido?

