


# PERÍMETRO Y ÁREA



1. Observa este rectángulo.



Calcula el **área** de este rectángulo:

Datos

Escribe la operación

Escribe el resultado

Un lado mide:

Otro lado mide:

¿Cuánto mide su **perímetro**?

Datos

Escribe la operación

Escribe el resultado

2. Miguel quiere poner una valla alrededor de su jardín.



¿Cuánta madera necesita para poner una valla en todos los lados del jardín?

Datos

Escribe la operación

Escribe el resultado

¿Cuántos **metros cuadrados** mide su jardín?

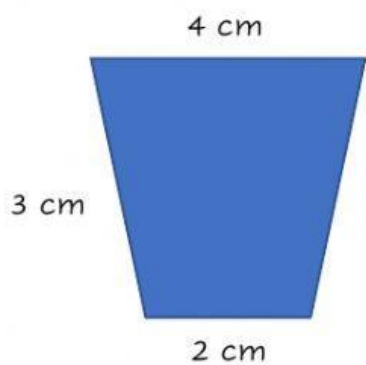
Datos

Escribe la operación

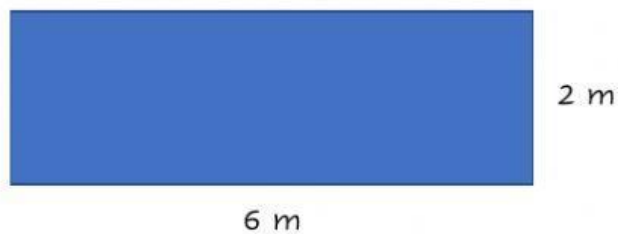
Escribe el resultado

3. Calcula mentalmente.


El perímetro



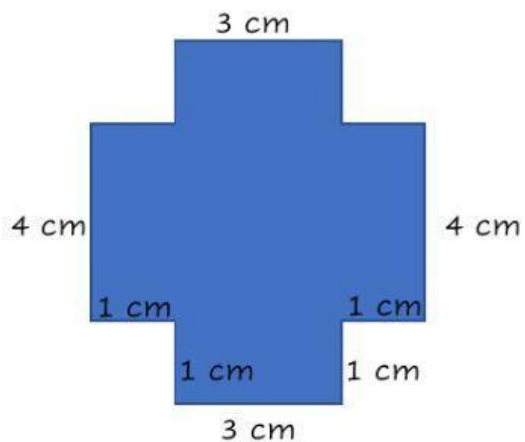
El área



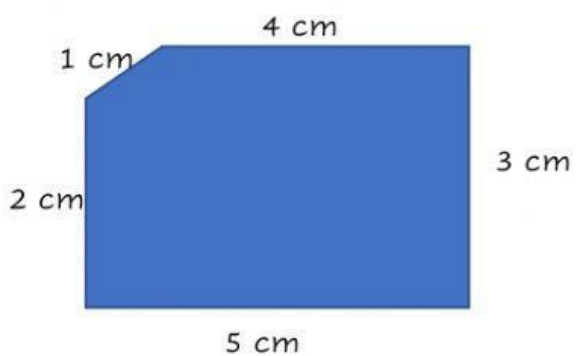
El área



El perímetro



El perímetro



El perímetro

