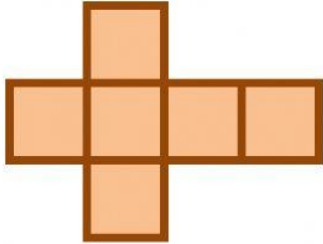
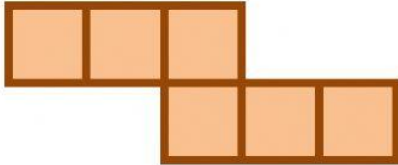
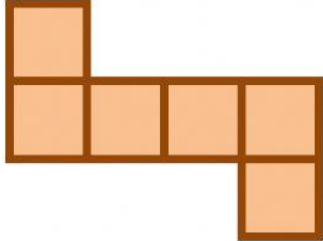
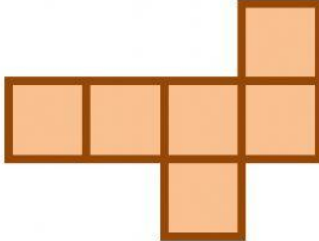
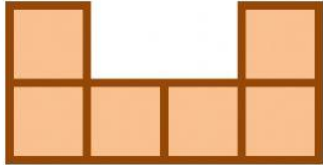
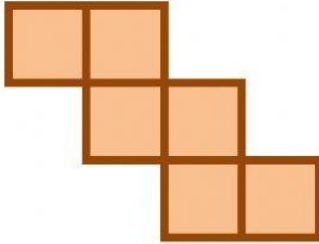
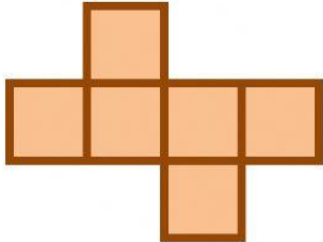
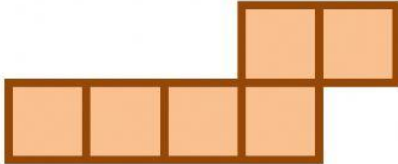


Jaring-jaring Kubus dan Balok

Nama Siswa :

Kelas :

1. Manakah pada gambar jaring-jaring berikut yang membentuk kubus?

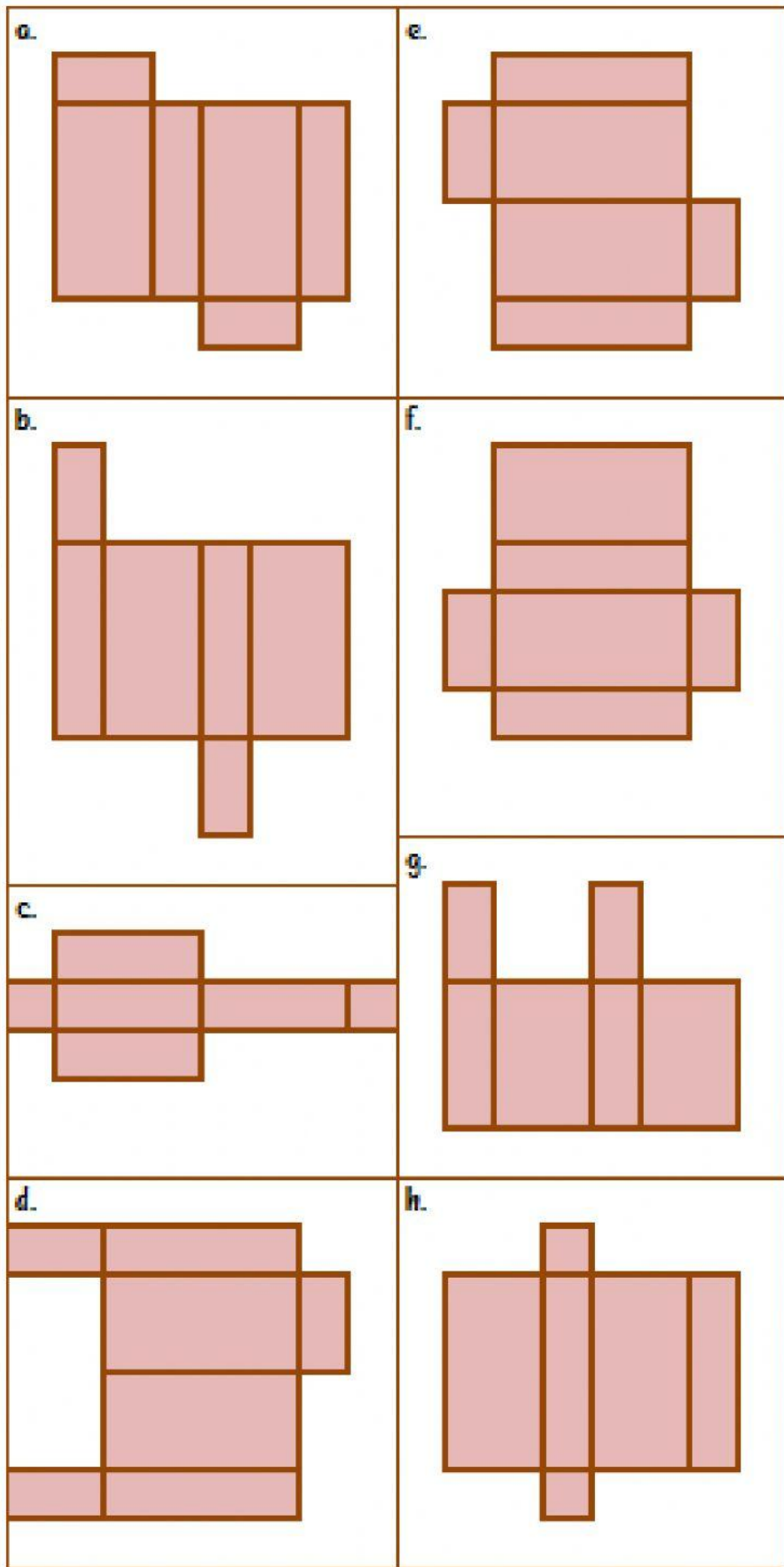
a. 	e. 
b. 	f. 
c. 	g. 
d. 	h. 

Mrs. Fitri Yanti

Guru SDS Yasporbi 1

email : fitriyantimiftah@gmail.com

2. Manakah pada gambar jaring-jaring berikut yang membentuk balok?

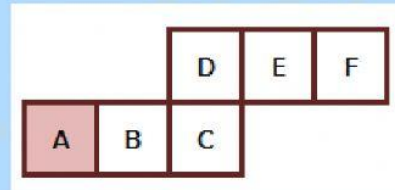


Mrs. Fitri Yanti

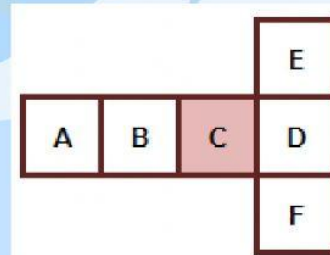
Guru SDS Yasporbi 1

email : fitriyantimiftah@gmail.com

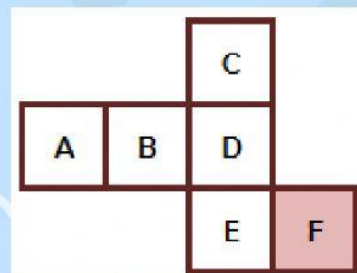
3. Perhatikan jaring-jaring kubus berikut,
Jika A adalah alas kubus, tutup kubus adalah . . .



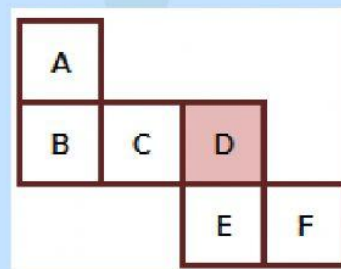
4. Perhatikan jaring-jaring kubus berikut,
Jika C adalah tutup kubus, alas kubus adalah . . .



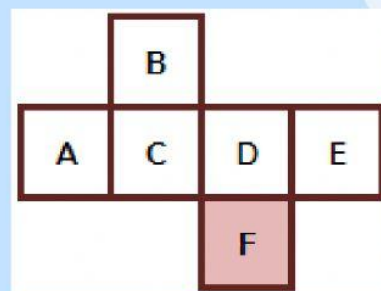
5. Perhatikan jaring-jaring kubus berikut,
Jika F adalah tutup kubus, alas kubus adalah . . .



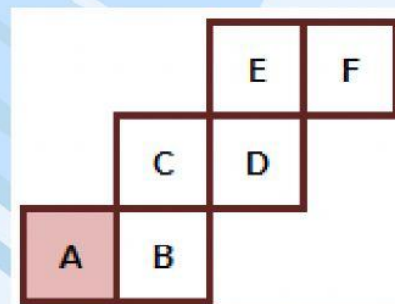
6. Perhatikan jaring-jaring kubus berikut,
Jika D adalah alas kubus, tutup kubus adalah . . .



7. Perhatikan jaring-jaring kubus berikut,
Jika F adalah alas kubus, tutup kubus adalah . . .



8. Perhatikan jaring-jaring kubus berikut,
Jika A adalah alas kubus, tutup kubus adalah . . .



Mrs. Fitri Yanti

Guru SDS Yasporbi 1

email : fitriyantimiftah@gmail.com