



















# REPASO MATEMÁTICAS 2º PRIMARIA

Redondeo a la decena.

1) ¿Entre qué decenas está el superhéroe?

<input type="text"/>	32	<input type="text"/>	<input type="text"/>	75	<input type="text"/>
					
<input type="text"/>	93	<input type="text"/>	<input type="text"/>	58	<input type="text"/>
					
<input type="text"/>	47	<input type="text"/>	<input type="text"/>	36	<input type="text"/>
					
<input type="text"/>	29	<input type="text"/>	<input type="text"/>	81	<input type="text"/>
					
<input type="text"/>	16	<input type="text"/>	<input type="text"/>	64	<input type="text"/>
					

2) Une el superhéroe con la decena más cercana.

37	64	75	68	15	92	26	53
							

20	30	40	50	60	70	80	90
----	----	----	----	----	----	----	----