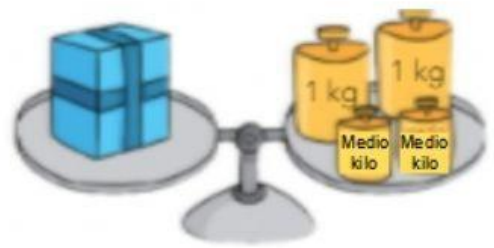
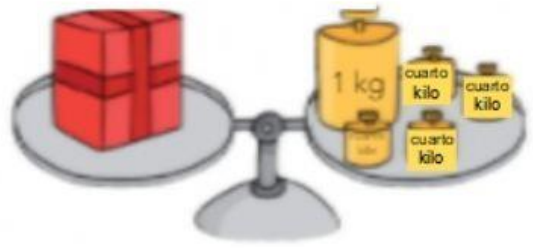
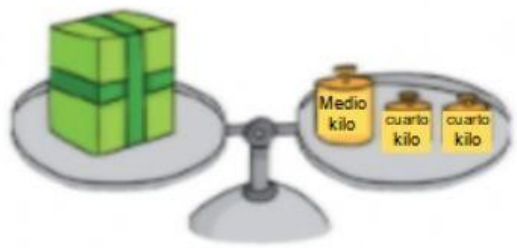


4 ¿Cuánto pesan estas cajas? Observa y escribe.










5 Escribe los número del 1 al 4 parar ordenar estas cajas. Pon 1 en la que pesa menos.







