







# Actividad de Dibujo Técnico

Nombre: \_\_\_\_\_ curso: \_\_\_\_\_

- Encuentras las vistas principales de cada uno de los isometricos que te muestra la siguiente imagen, recuerda que alzado es: Frontal y Planta es superior.

**Nota:** ubica los numeros en la casilla que corresponda.

						
ALZADO						
PLANTA						
LATERAL IZDO						

