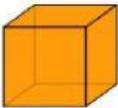
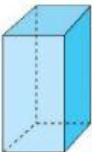
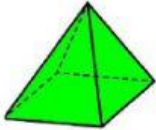
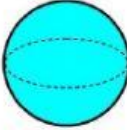




# ¿CÓMO SON LOS CUERPOS GEOMÉTRICOS?

1.- Revisa el siguiente video explicativo.



2.- Escribe en la tabla la información que se te pide acerca de los cuerpos geométricos.

						
Nombre del cuerpo						
Número total de caras						
Número total de caras planas						
Números total de aristas						
Numero de vértices						

3.- Responde las preguntas.

1. ¿Qué cuerpos tienen todas las caras planas?

2. ¿Qué cuerpos tienen algunas caras planas?

3. ¿Qué cuerpo no tienen caras planas?



4. ¿Qué cuerpo tienen al menos una cara curva?

5. ¿Qué cuerpo tienen algunas aristas rectas?