

Asignatura: Español o Lengua Materna

Nombre del profesor:

Grado:

Grupo:

Nombre del alumno:

Apellido paterno

Apellido materno


Nombre

Instrucciones:

Identifica los tipos de apoyos gráficos que se muestran en las imágenes de más abajo. Es un ejercicio en el que debes seleccionar la respuesta correcta dando clic en la opción que elijas. Las respuestas posibles están localizadas debajo de cada imagen. Apóyate en el video de abajo si es que acaso no viste en su momento el programa de APRENDE EN CASA del día 25 de enero de 2021. en el cual está basada esta actividad.

VIDEO: APRENDE EN CASA

IMAGEN 1.



- a) Cuadro sinóptico b) Mapa conceptual c) Línea de tiempo d) Mapa mental e) Gráfico de barras

IMAGEN 2.



- a) Cuadro sinóptico b) Mapa conceptual c) Línea de tiempo d) Mapa mental e) Gráfico de barras

IMAGEN 3.



- a) Cuadro sinóptico b) Mapa conceptual c) Línea de tiempo d) Mapa mental e) Gráfico de barras

IMAGEN 4.



- a) Cuadro sinóptico b) Mapa conceptual c) Línea de tiempo d) Mapa mental e) Gráfico de barras

IMAGEN 5.



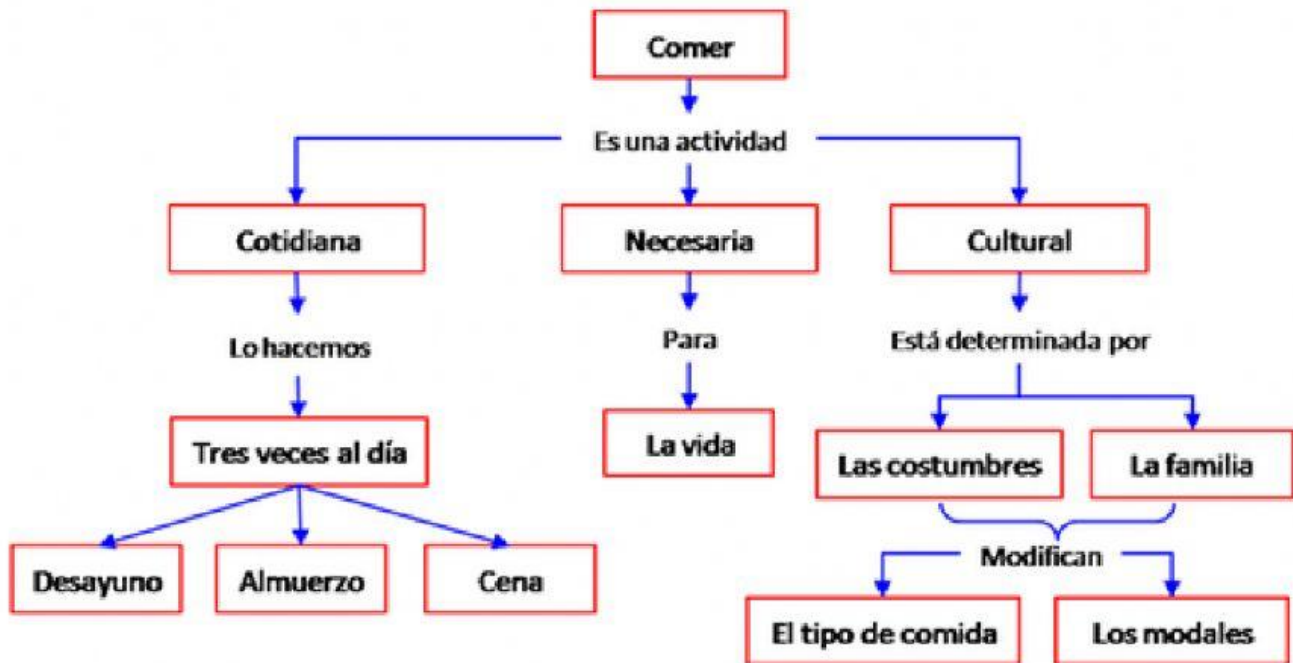
- a) Cuadro sinóptico b) Mapa conceptual c) Línea de tiempo d) Mapa mental e) Gráfico de barras

IMAGEN 6.



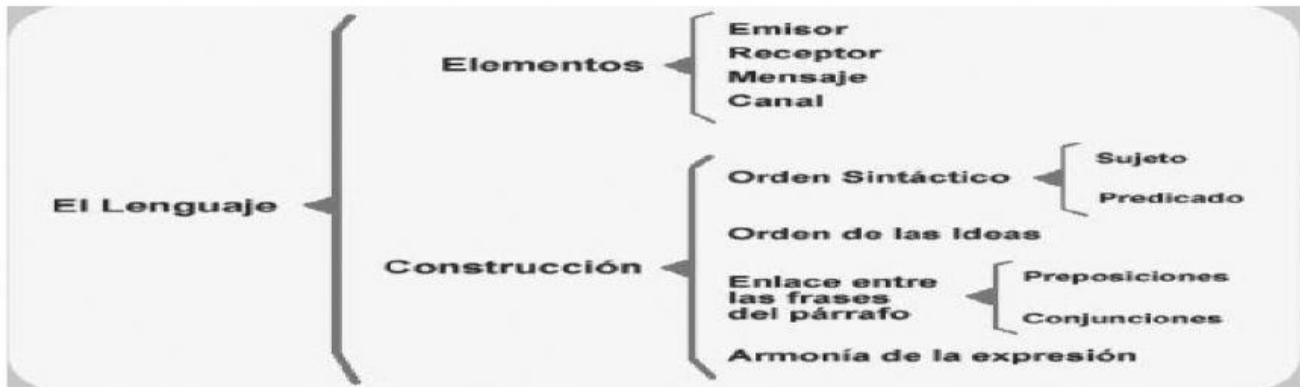
- a) Cuadro sinóptico b) Mapa conceptual c) Línea de tiempo d) Mapa mental e) Gráfico de barras

IMAGEN 7.



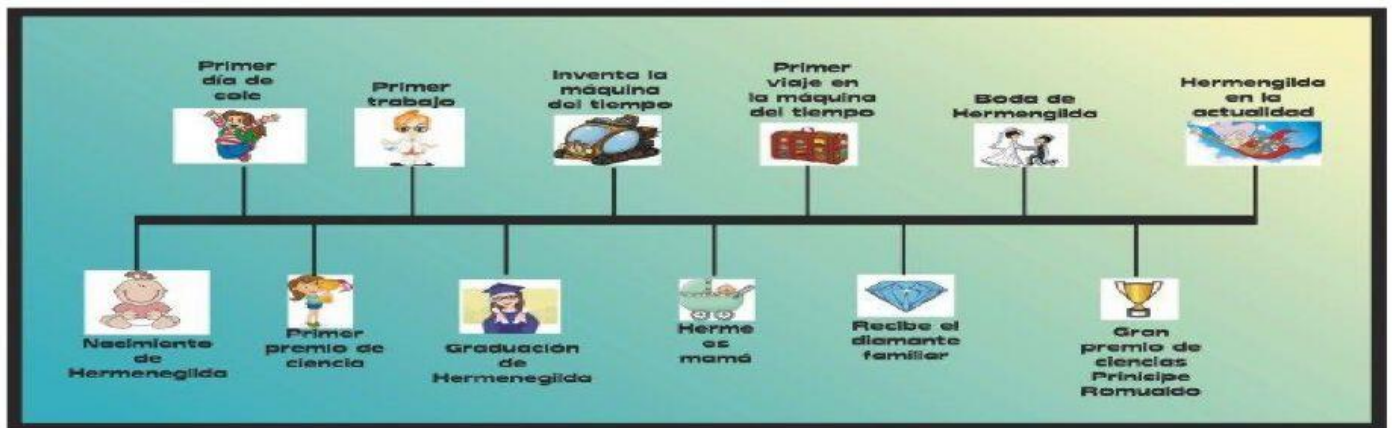
- a) Cuadro sinóptico b) Mapa conceptual c) Línea de tiempo d) Mapa mental e) Gráfico de barras

IMAGEN 8.



- a) Cuadro sinóptico b) Mapa conceptual c) Línea de tiempo d) Mapa mental e) Gráfico de barras

IMAGEN 9.



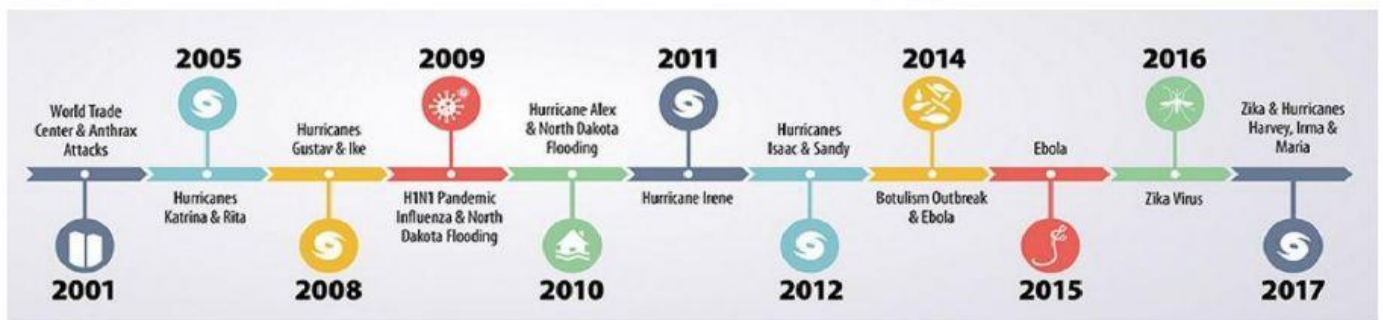
- a) Cuadro sinóptico b) Mapa conceptual c) Línea de tiempo d) Mapa mental e) Gráfico de barras

IMAGEN 10.



- a) Cuadro sinóptico b) Mapa conceptual c) Línea de tiempo d) Mapa mental e) Gráfico de barras

IMAGEN 11.



- a) Cuadro sinóptico b) Mapa conceptual c) Línea de tiempo d) Mapa mental e) Gráfico de barras

IMAGEN 12.



- a) Cuadro sinóptico b) Mapa conceptual c) Línea de tiempo d) Mapa mental e) Gráfico de barras

IMAGEN 13.



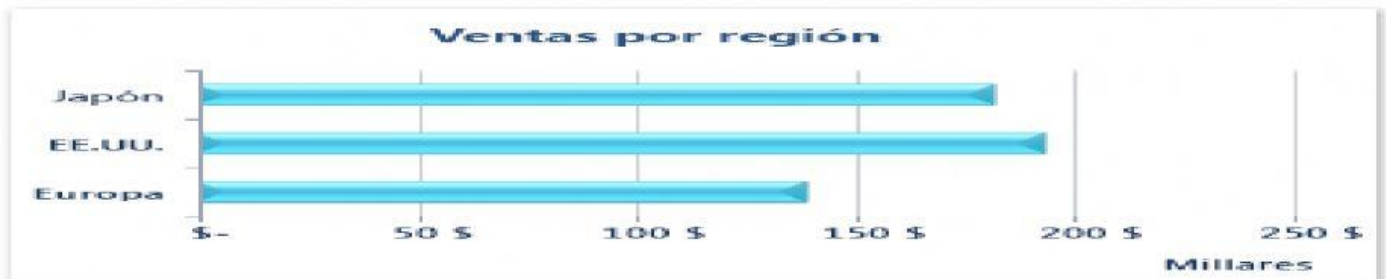
- a) Cuadro sinóptico b) Mapa conceptual c) Línea de tiempo d) Mapa mental e) Gráfico de barras

IMAGEN 14.



- a) Cuadro sinóptico b) Mapa conceptual c) Línea de tiempo d) Mapa mental e) Gráfico de barras

IMAGEN 15.



- a) Cuadro sinóptico b) Mapa conceptual c) Línea de tiempo d) Mapa mental e) Gráfico de barras

Ahora da clic abajo en **TERMINADO** y ya acabaste esta actividad. Felicidades por tu esfuerzo.