

Matemáticas - Tema 4 - Ficha de repaso I

Ejercicio 1 - Completa con el factor que falta.

$2x = 14$

$3x = 18$

$4x = 36$

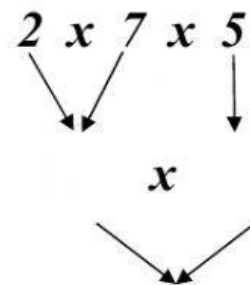
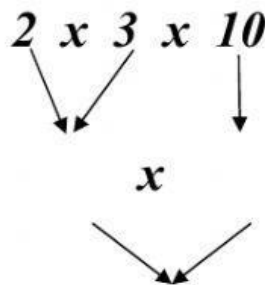
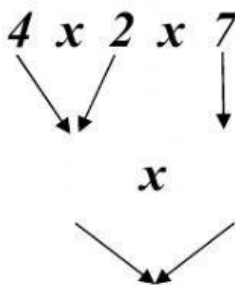
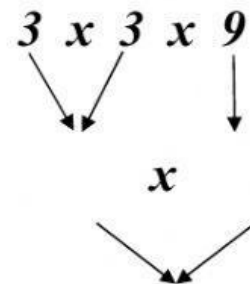
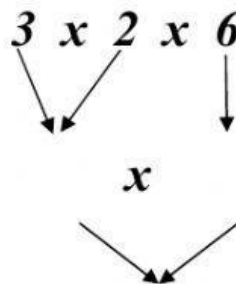
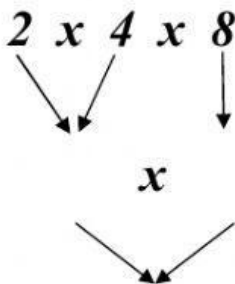
$x5 = 40$

$x7 = 63$

$x8 = 72$



Ejercicio 2 - Multiplica los tres factores.



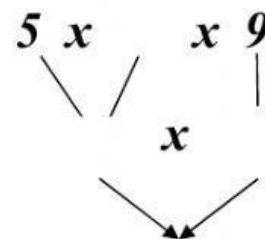
Ejercicio 3 - Lee y calcula.

➤ Hay 5 cajas. En cada caja hay 4 bolsas con 9 globos cada una. ¿Cuántos globos hay?

Datos

- Hay cajas.
- En cada caja hay bolsas.
- En cada bolsa hay globos.

Operación



Solución: En total hay globos.