

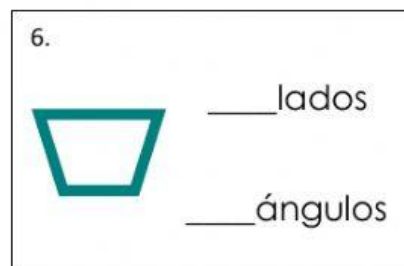
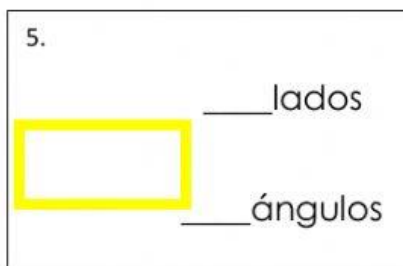
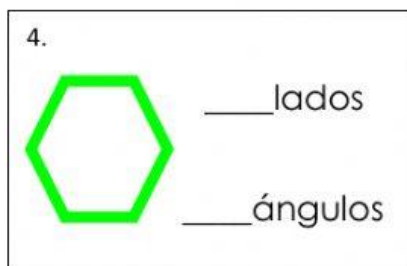
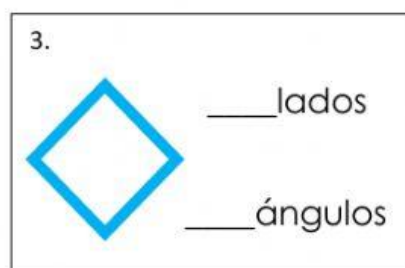
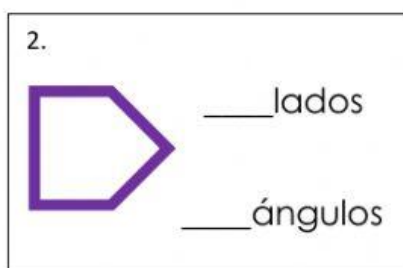
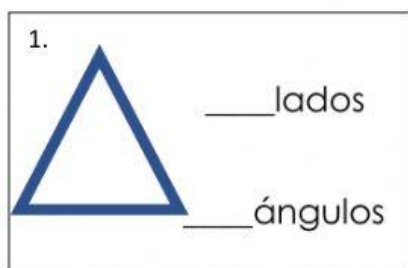
Nombre: _____

2- _____

Fecha: V.J.M.J.Ch. ____ de ____ de ____.

Capítulo 12: Cuerpos geométricos

I. En cada línea escribe la cantidad de lados y ángulos que tiene cada figura.



II. Arrastra cada figura hasta el lugar que le corresponde.

5 lados y 5 ángulos	0 lados y 0 ángulos	8 lados y 8 ángulos	3 lados y 3 ángulos	4 lados y 4 ángulos

