

Lembar Kerja Peserta Didik (LKPD) Digital Matematika Kelas VI (Enam)

Nama Peserta Didik :

Kelas :

No. Absen :


Petunjuk

Bacalah materi pelajaran berikut dengan baik!

Kerjakan pertanyaan-pertanyaan sesuai dengan petunjuk pengerjaan!

Pengolahan Data (Modus)

Bacalah materi pelajaran yang ada pada Presentasi PowerPoint berikut ini!



Isilah titik-titik di bawah ini dengan jawaban yang tepat!

Perhatikan data berat badan siswa (dalam kg) berikut untuk menjawab soal nomor 1-3!

43 39 40 41 41 38 42 39

40 41 39 39 40 38 42

1. Berat badan siswa yang paling berat adalah
2. Berat badan siswa yang paling ringan adalah
3. Modus dari data di atas adalah
4. Ibu membeli 5 kg tepung terigu, 3 kg gula, 8 kg telur, dan 2 kg tepung sagu. Modus dari data tersebut adalah
5. Jenis minuman yang tersedia di minimarket berjumlah 650 buah yang terdiri dari 160 susu, 80 jus, 100 teh, 110 kopi, dan sisanya air mineral. Modus dari data tersebut adalah

Pilihlah jawaban yang paling tepat!

6. Berikut ini adalah data pekerjaan orang tua siswa kelas VI :

9 orang tua siswa sebagai petani
 18 orang tua siswa sebagai pedagang
 3 orang tua siswa sebagai PNS
 18 orang tua siswa sebagai wiraswasta
 10 orang tua siswa sebagai pegawai swasta

Modus dari data di atas adalah

- A. pedagang
 B. wiraswasta
 C. pedagang dan wiraswasta
 D. tidak memiliki modus
7. Pelemparan dadu sebanyak 12 kali. Angka yang keluar datanya adalah :

4, 3, 6, 1, 2, 5, 1, 2, 5, 3, 4, 6

Modus dari data di atas adalah

- A. 1, 2, 3
 B. 4, 5, 6
 C. 1, 2, 3, 4, 5, 6
 D. tidak memiliki modus

8. Perhatikan tabel berikut!

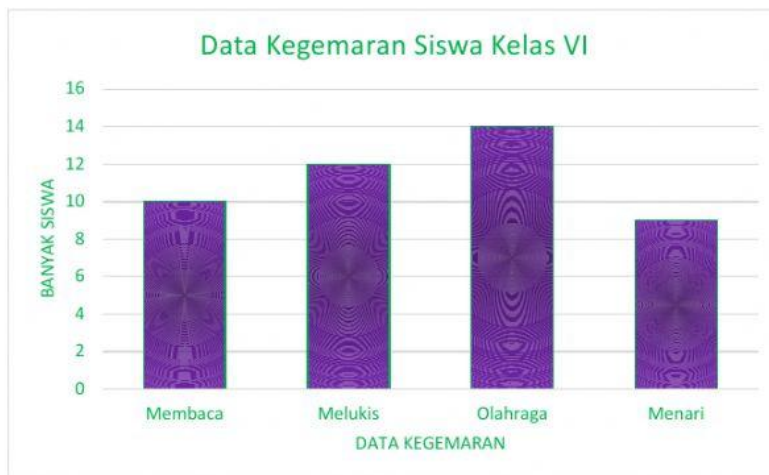
Data Banyak Pengunjung Taman Bermain

| Kategori Pengunjung | Banyak Pengunjung |
|---------------------|-------------------|
| Balita | 200 |
| Anak-anak | 275 |
| Remaja | 350 |
| Dewasa | 305 |

Modus dari data pada tabel di atas adalah

- A. balita
 B. anak-anak
 C. remaja
 D. dewasa

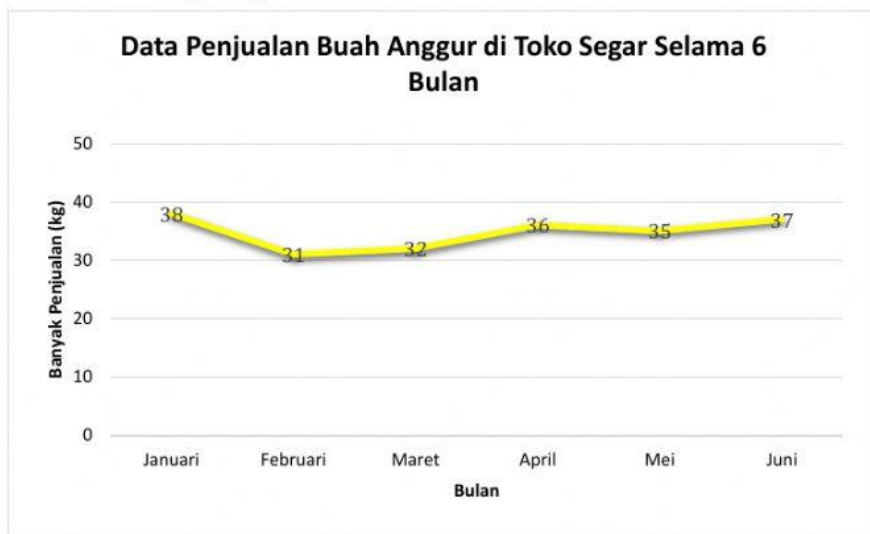
9. Perhatikan diagram batang berikut!



Modus dari data pada diagram di atas adalah

- A. membaca
- B. melukis
- C. olahraga
- D. menari

10. Perhatikan diagram garis berikut!



Modus dari data pada diagram di atas adalah

- A. Januari
- B. Februari
- C. Mei
- D. Juni



Jika sudah selesai, klik **FINISH** kemudian klik **Check My Answers**.
Setelah itu Scroll ke atas, Screenshot nilai yang kamu dapatkan.