

1.1 Dunia Reka Bentuk SP 1.1.1 SP 1.1.2 SP 1.1.3 SP 1.1.4 SP 1.1.5 SP 1.1.6 SP 1.1.7

1 Pilih dari pilihan A–E untuk melengkapkan takrif reka bentuk dan teknologi. **TP1**

Reka bentuk dan teknologi merupakan gabungan pengetahuan tentang _____ bahan secara terancang dengan mengaplikasikan pengetahuan _____. Tujuan ini dilakukan adalah untuk _____ kehidupan manusia.

B	pengasingan	D	memudahkan
A	sains dan teknologi	C	matematik dan teknologi
		E	penyusunan

2 Suaikan elemen dengan huraian yang betul.

Elemen	Huraian
(a) Garisan	Ukuran atau dimensi bagi sesuatu objek.
(b) Saiz	Kawasan kosong yang di sekeliling objek.
(c) Ruang	Cantuman satu siri titik.




3 Jawab soalan di bawah mengenai warna.

TUTOR PENYELESAIAN 1 RBT008

(a) Apakah contoh warna primer?	<input type="text"/>
(b) Apakah contoh warna sekunder?	<input type="text"/>
(c) Apakah contoh warna panas?	<input type="text"/>
(d) Apakah contoh warna sejuk?	<input type="text"/>

4 Berdasarkan gambar di bawah, nyatakan jenis elemen yang terlibat. **TP1**

TUTOR PENYELESAIAN 1 RBT009

(a) 	(b) 	(c) 
<input type="text"/>	<input type="text"/>	<input type="text"/>