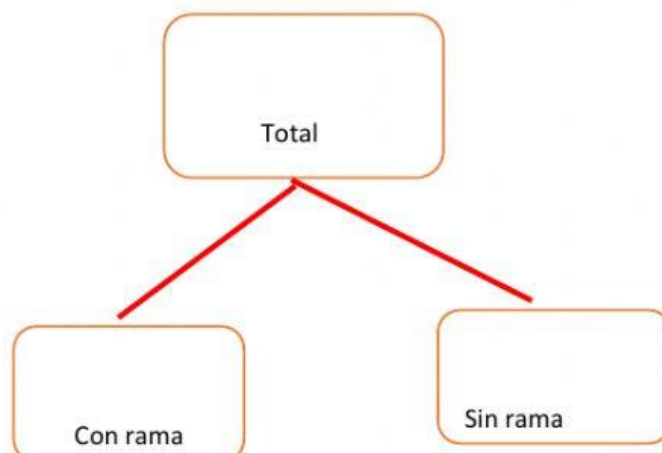
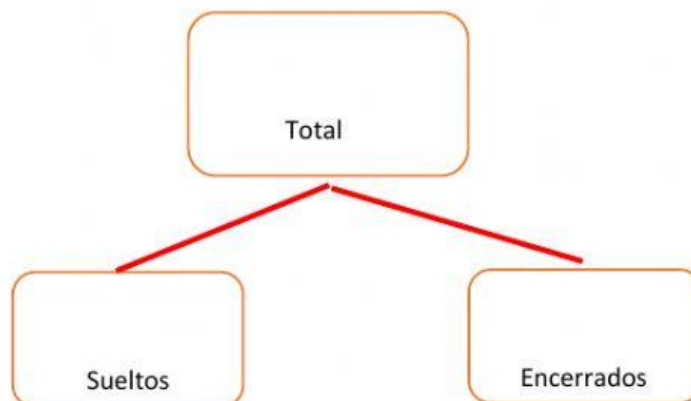
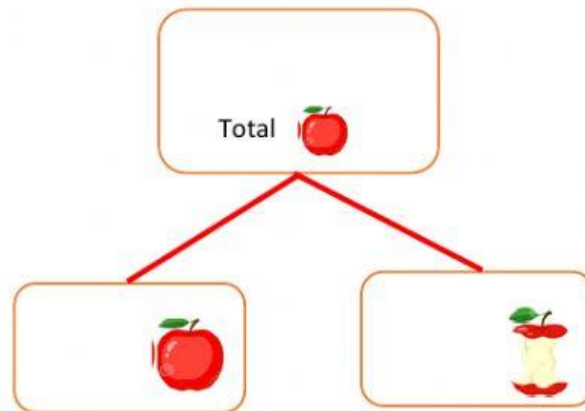

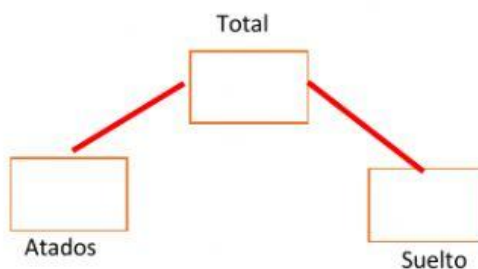


Resolvemos situaciones problemáticas

Completar los cuadros según corresponda a partir de la observación de las imágenes



Observa las imágenes y completa los cuadros y da respuesta a las preguntas.



¿Cuántos globos hay en total?

¿Cuántos globos están sueltos?

¿Cuántos globos están atados?



¿Cuántos niños y niñas hay?

¿Si hay 8 niños cuántas niñas hay?

¿Si hay 10 niñas cuántos niños hay?



¿Cuántas galletas prepararon?

¿Cuántas galletas son redondas?

¿Cuántas galletas son cuadradas?



¿Cuántas flores hay?

¿Cuántas mariposas hay?

¿Cuántos girasoles hay?

