









Arrastra la función de cada aparato, sistema u órgano y su nombre a su lugar

NOMBRE				
FUNCIÓN DE NUTRICIÓN				
FUNCIÓN QUE REALIZA				
NOMBRE				
FUNCIÓN DE RELACIÓN				
FUNCIÓN QUE REALIZA				
NOMBRE				
FUNCIÓN DE REPRODUCCIÓN				
FUNCIÓN QUE REALIZA				

INTERPRETA LA INFORMACIÓN Y ELABORA LA RESPUESTA

PRODUCEN DESCENDIENTES

OBTIENEN LOS NUTRIENTES QUE NECESITAMOS

LLEVAN A CABO LAS RESPUESTAS DEL ORGANISMO

CAPTAN INFORMACIÓN

EXPULSA SUSTANCIAS DE DESECHO

TRANSPORTA SUSTANCIAS POR LA SANGRE

SENTIDOS

A. DIGESTIVO

A. RESPIRATORIO

A. CIRCULATORIO

CAPTA OXÍGENO Y ELIMINA DIÓXIDO DE CARBONO

S. LOCOMOTOR

S. NERVIOSO

A. EXCRETOR

A. REPRODUCTOR

UNE CADA PARTE DEL APARATO DIGESTIVO CON SU NOMBRE

