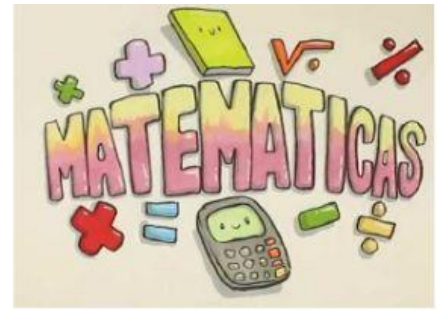
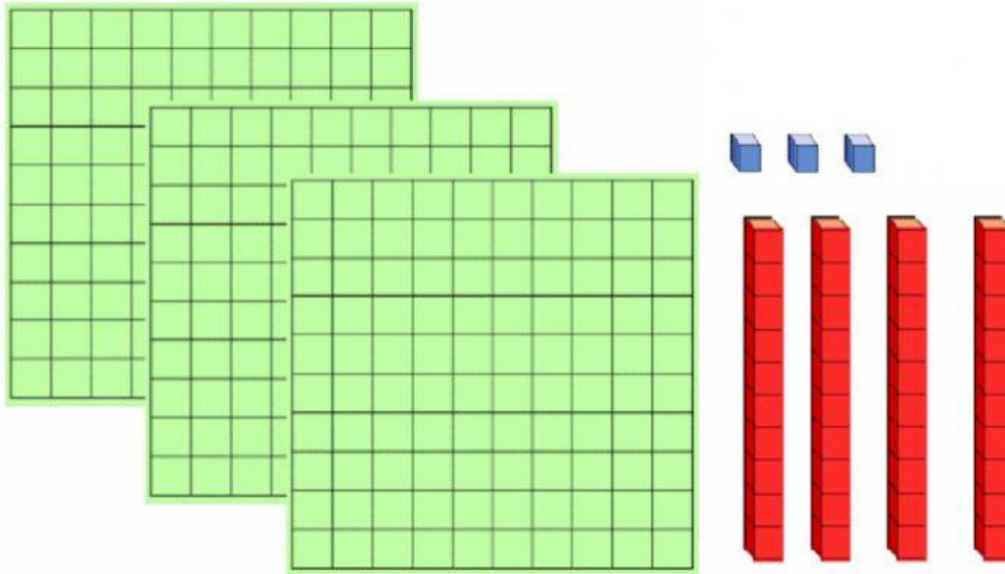


MATEMÁTICAS



Escribe los números correspondientes.



$$\boxed{} \text{ C} + \boxed{} \text{ D} + \boxed{} \text{ U}$$

$$\boxed{} \text{ U} + \boxed{} \text{ U} + \boxed{} \text{ U} = \boxed{}$$

Coloca en vertical y calcula el resultado de las operaciones.

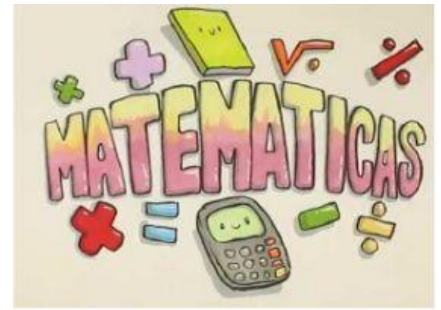
$$307 - 108$$

	C	D	U
-			

$$221 - 12$$

	C	D	U
-			

MATEMÁTICAS



Completa.

$5 \times 2 =$

$9 \times 5 =$

$5 \times 10 =$

$5 \times 6 =$

$3 \times 5 =$

$5 \times 4 =$

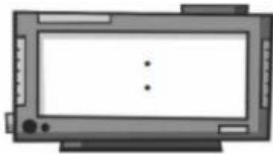
$5 \times 8 =$

$1 \times 5 =$

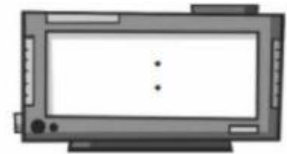
$5 \times 5 =$

Completa estos relojes:

Son las cinco menos cuarto.



Son las nueve y media.



Son las seis en punto.



Son las once y cuarto.

