







Nombre del alumno(a) \_\_\_\_\_

Grado: \_\_\_\_\_ Grupo: \_\_\_\_\_

fecha \_\_\_\_\_

1. Selecciona la cantidad de cuentas para formar el número que te indica.



2. Escribe el número antecesor y sucesor.

\_\_\_\_\_124\_\_\_\_\_

\_\_\_\_\_234\_\_\_\_\_

\_\_\_\_\_345\_\_\_\_\_

\_\_\_\_\_288\_\_\_\_\_

\_\_\_\_\_356\_\_\_\_\_

\_\_\_\_\_379\_\_\_\_\_



Selecciona el número que se te indica.



300

320

367



376

178

216



248

245

398



218

288

15



111

212

221

Resuelve las siguientes operaciones.

$$\begin{array}{r} \square \\ + \begin{array}{|c|c|c|} \hline 1 & 2 & 3 \\ \hline & 7 & 7 \\ \hline & & \\ \hline \end{array} \end{array}$$

$$\begin{array}{r} \square \\ + \begin{array}{|c|c|c|} \hline 2 & 1 & 2 \\ \hline 1 & 8 & 9 \\ \hline & & \\ \hline \end{array} \end{array}$$

$$\begin{array}{r} \square \\ + \begin{array}{|c|c|c|} \hline 1 & 1 & 0 \\ \hline 1 & 5 & 7 \\ \hline & & \\ \hline \end{array} \end{array}$$