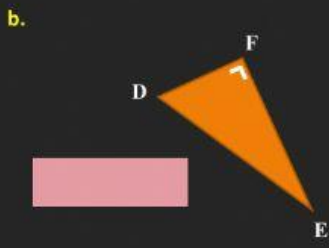
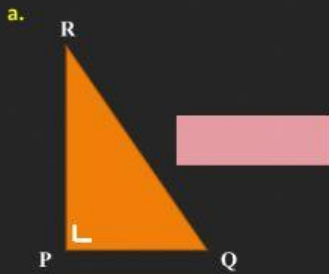


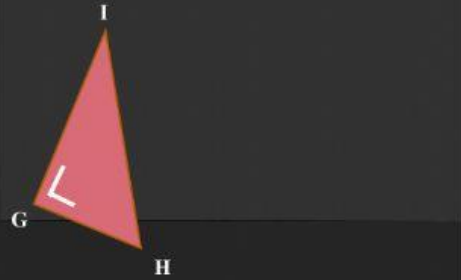
KONSEP

Dari setiap soal dibawah, tentukan sisi yang merupakan hipotenusa!



KUIS MATEMATIKA TEOREMA PYTHAGORAS

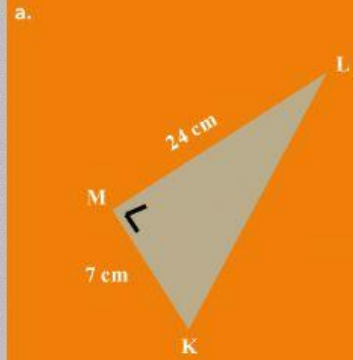
Pilihlah pernyataan yang benar sesuai dengan gambar berikut!



CREATED BY :
YUNI PRATIWI, S.PD.

SMP NEGERI 1 WIRADESA

Isilah bagian yang rumpang, dan tentukan nilai yang belum diketahui dari soal berikut :



$$\begin{aligned}
 KL^2 &= KM^2 + \\
 KL^2 &= \quad + 24^2 \\
 KL^2 &= 49 + \\
 KL^2 &= \\
 KL &= \sqrt{\quad} \\
 KL &= \quad \text{cm}
 \end{aligned}$$