

# EXAMEN MATEMATICAS 1° GRADO PARCIAL DIC-ENE



Nombre del alumno: \_\_\_\_\_.

- I. Arrastra los billetes y monedas que necesitas para completar las cantidades. (3 pts)

82 pesos	 
55 pesos	
110 pesos	  



II. Lee con atención y responde los siguientes problemas razonados. (2 pts.)

¿Cuántos frijoles había al principio?

¿Cuántos metió?



III. Une mediante una línea los signos según corresponda. (3 pts)



IGUAL



MENOS




MAS

IV. Selecciona los números que están mal escritos. (1 pto)


70	71	72	63	74	75
----	----	----	----	----	----

90	19	92	82	94	95
----	----	----	----	----	----


V. Une los objetos con la misma forma. (5 pts)




VI. Resuelve las siguientes operaciones, observa el signo y responde según corresponda.




D	U
4	2
1	5



D	U
3	8
3	1




D	U
7	4
1	2



D	U
5	8
3	2



D	U
9	5
6	2



D	U
7	6
5	5