

## Patstāvīgais darbs – Objektu virknes un kopas, darbību secība

### 1. uzdevums.

Saskati likumsakarību izveidotajā virknē. Tukšajā lauciņā ieraksti tās bultiņas numuru, kura virknē būs nākamā.



Atbilžu varianti:



### 2. uzdevums.


Pirmajā kolonnā sanumurē darbības pareizā secībā.

Lai izaudzētu burkānus:

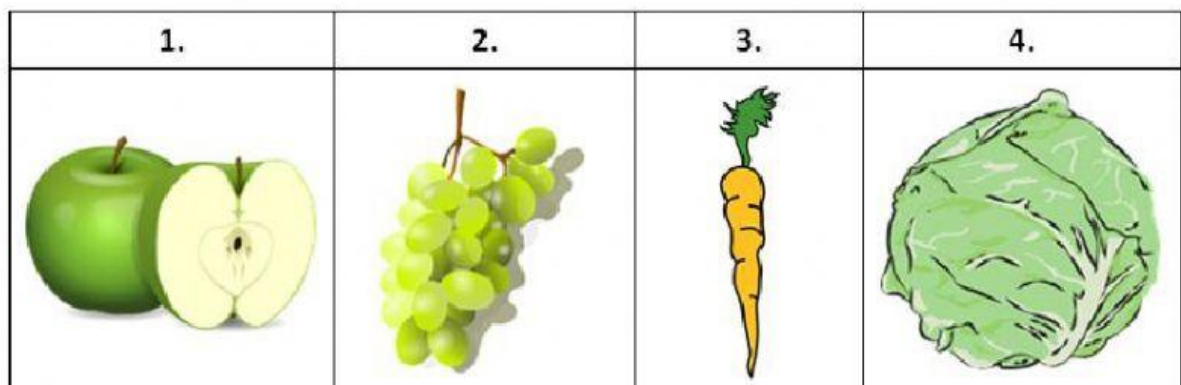
	Ravē burkānus.
	Sagatavo zemi sēšanai.
	Novāc burkānus.
	Iesēj sēklas.

### 3. uzdevums.

Ieraksti tā attēla numuru, kurš iederas dotajā kopā! **Atbilde:** \_\_\_\_\_



Atbilžu varianti:



#### 4. uzdevums.

Ieraksti tās puķu kastes numuru, kura būtu jānovieto pie attēlā redzamā tukšā loga, lai puķu kastes pie logiem būtu izkārtotas pēc noteiktas likumsakarības. **Atbilde:** \_\_\_\_\_



1.	2.	3.	4.


#### 5. uzdevums.

Sanumurē uzrakstītās darbības pareizā secībā, lai varētu pagatavot ievārījumu.

	Ielej ievārījumu burkā.
	Aizskrūvē vāku.
	Uzliek burkai vāku.
	Vāra, līdz gatavs.
	Ieber katlā ķiršus un cukuru.
	Izņem ķiršiem kauliņus.

#### 6. uzdevums.

Saskati likumsakarību izveidotajā virknē. Kura figūra iederas tukšajā lodziņā?



1) 2)

