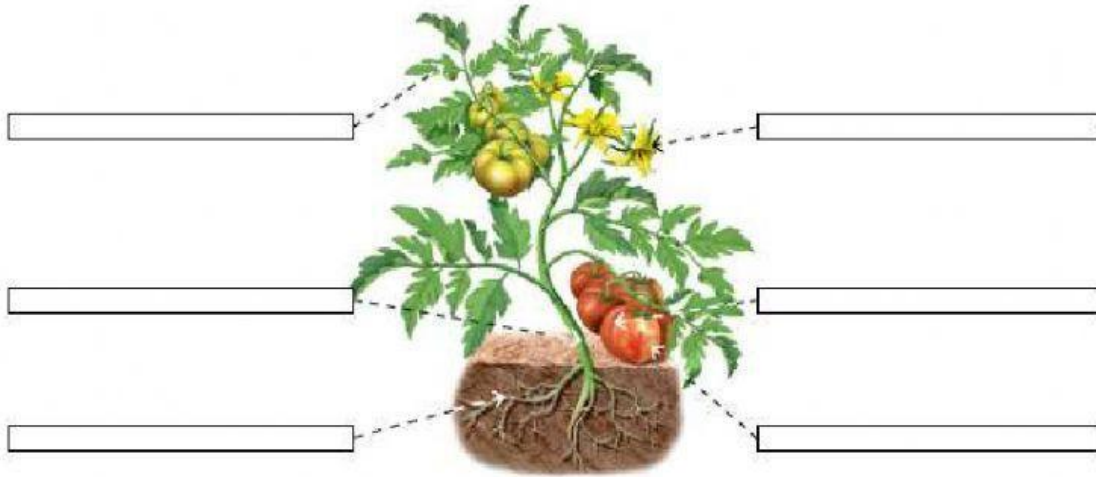


PRUEBA CIENCIAS NATURALES TEMA 7 Y 8

1. Escribe las partes de las plantas



2. Completar este texto sobre la alimentación de las plantas


Las plantas para fabricar su alimento necesitan _____,
_____, _____ y _____.

Al fabricar su alimento expulsan _____.

3. Escribe el nombre de cada planta en su lugar

Helecho	Pino	Musgo	Trébol	Abeto	Naranjo
Sin flores, sin frutos y sin semillas	Con flores, con frutos y con semillas	Con flores, con frutos y con semillas	Con flores, con frutos y con semillas	Sin flores, sin frutos y con semillas	Sin flores, sin frutos y con semillas
_____	_____	_____	_____	_____	_____
_____	_____	_____	_____	_____	_____

4. Ordena el proceso de germinación de una planta.



- La planta crece y forma flores.
- La semilla germina y da una nueva planta.
- La flor se transforma en el fruto.
- La semilla cae al suelo.

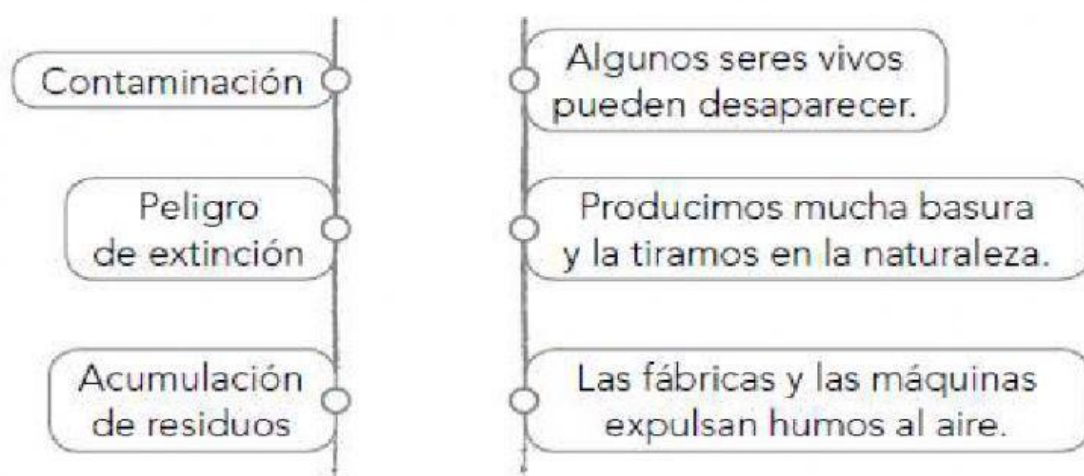
☐
☐
☐
☐

5. Elige V si es verdadero y F si es falso.

- El tallo absorbe el agua y las sustancias del suelo
- Las hojas caduca no se caen en todo el año
- Las semillas germinan y dan lugar a la planta hija

☐
☐
☐

6. Une con flechas



7. Observa y elige con SI o NO las características de este medio. Después marca los seres vivo que pueden vivir en él.



- Es un medio acuático. ☐
- Es un medio terrestre. ☐
- Hace mucho calor. ☐
- Hace frío y nieva en invierno. ☐
- Lluvea muy poco. ☐



8. Coloca cada residuo en el contenedor correspondiente

cáscara de plátano

botella

periódico

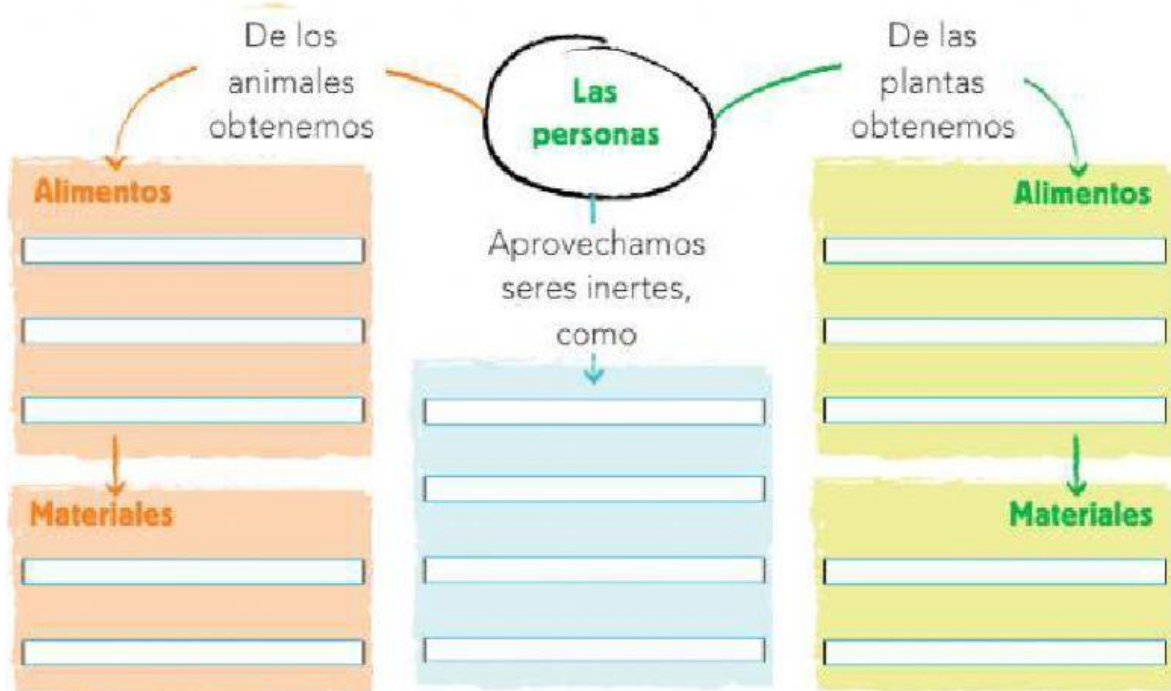
brick de leche



9. Completa el esquema colocando cada palabra en su hueco.

carne - lana - aire - madera - algodón - pescado - sol - miel

cuero - frutas - verduras - legumbres - harina - agua



10. Elige tres acciones que podemos hacer para cuidar la naturaleza.
